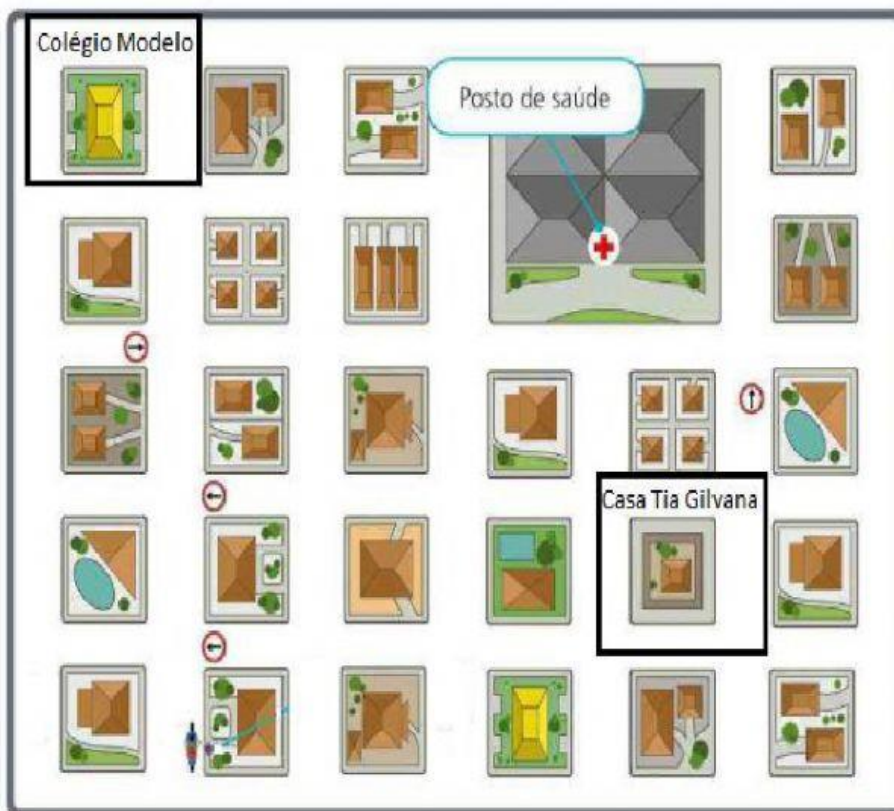


ATIVIDADE DE REVISÃO DE MATEMÁTICA



Humm! Matemática? Tenho certeza que vocês tiram de letra, vamos lá:

01. Um motoboy precisa entregar uma encomenda a Tia Gilvana, baseando-se pelo mapa abaixo é mais rápido ele fazer a entrega:

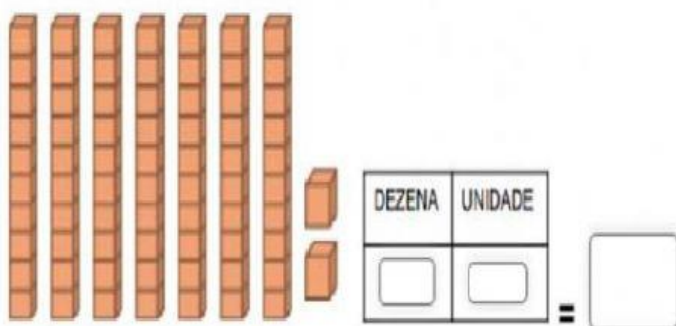


() na casa dela

() no colégio Modelo

() no posto de saúde

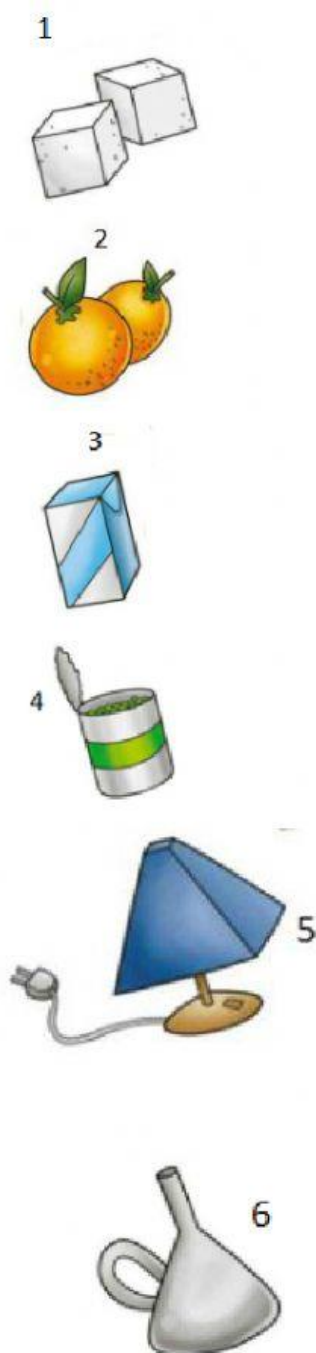
02. Uma professora postou a imagem ao lado, e perguntou a seus alunos, qual a resposta:



- () 7 dezenas 2 unidades = 72
- () 6 dezenas 2 unidades = 62
- () 7 centenas 2 unidades = 702
- () 7 centenas 2 dezenas = 720

forma:

Ligue corretamente os objetos a sua



círculo

cone

cilindro

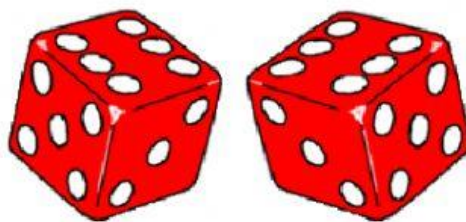
cubo

pirâmide

Paralelepípedo

Maria e Ângela estão brincando com um dado, a possibilidade de sair o número 6 é de:

- ☐ 6 vezes
- ☐ 1 vez
- ☐ 2 vezes



Tia Gilvana mandou fazer três bonecas conforme a imagem ao lado. Baseada na imagem a figura maior é:



A



B



C

- ☐ a figura B
- ☐ a figura A
- ☐ a figura C
- ☐ todas tem o mesmo tamanho

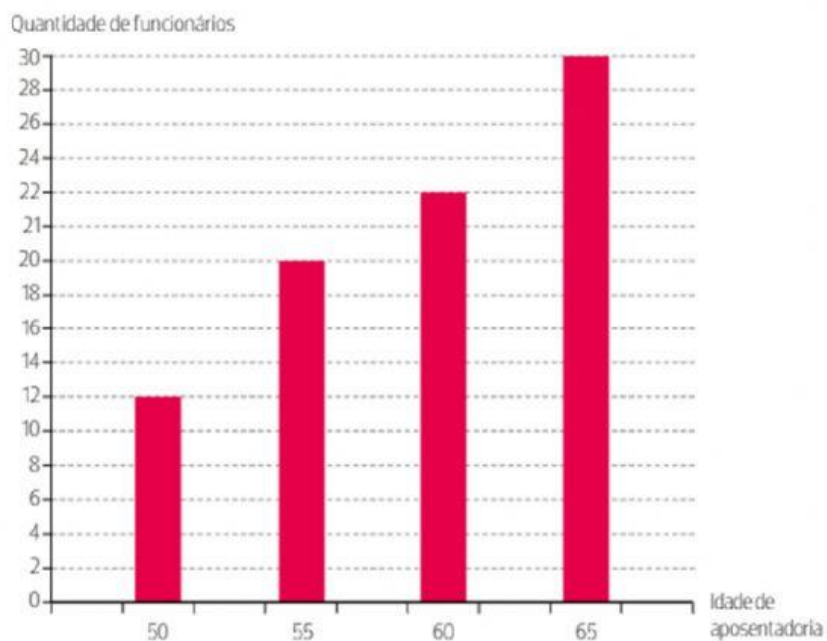
Tomando por base a tabela ao lado, responda: Quem é o maior e o menor?

Tabela 2	
Nome	Altura (cm)
Felipe	132
Alice	127
Maria Eduarda	135
João	140
Ana Clara	122

- ☐ Alice – Felipe
- ☐ Maria Eduarda – João
- ☐ João – Ana Clara

O desenho ao lado representa:

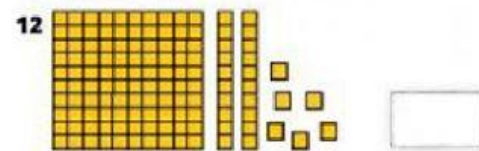


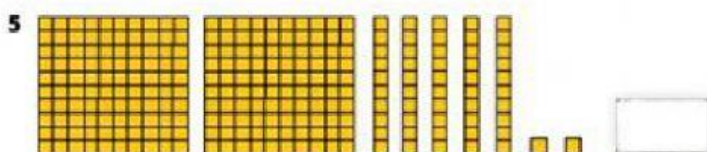
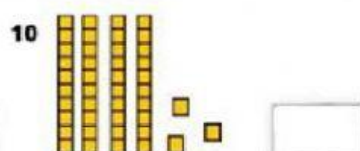


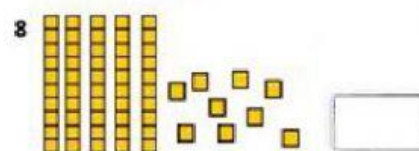

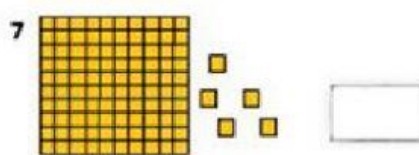
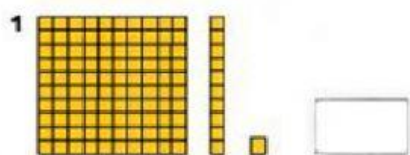
- () Tabela
- () Gráfico
- () Planilha



SOMANDO COM AS PEÇAS DO DOMINÓ

	$4 + 6 = 10$
	$\square + \square = \square$
	$\square + \square = \square$
	$\square + \square = \square$
	$\square + \square = \square$
	$\square + \square = \square$
	$\square + \square = \square$
	$\square + \square = \square$

Represente com algarismos as quantidades do material dourado representados:



RESOLVA AS SUBTRAÇÕES:

$8 - 6 = \square$

$8 - 2 = \square$

$5 - 4 = \square$

$4 - 3 = \square$

$3 - 3 = \square$

$7 - 2 = \square$

$7 - 3 = \square$

$6 - 4 = \square$

$9 - 4 = \square$

$5 - 0 = \square$

$6 - 3 = \square$

$4 - 2 = \square$

$3 - 2 = \square$

$9 - 3 = \square$


$2 - 1 = \square$

$8 - 5 = \square$

DESAFIO MATEMÁTICO

(FONTE: PINTEREST)

OBSERVE A FIGURA ABAIXO. COLOQUE OS NOMES (ARRASTE) DE ACORDO COM AS DICAS



- JUCA FICOU BEM EM FRENTE DE NINA.
- TIAGO FICOU IMEDIATAMENTE À DIREITA DE NINA
- JOÃO, QUE ESTAVA ENTRE (NO MEIO) JUCA E CARLOS FICOU BEM EM FRENTE A TIAGO.
- DEPOIS DE TIAGO VEIO A MANUELA.
- ENTRE CARLOS E NINA ESTAVA MARCOS.
- LÚCIA É A QUE ESTÁ DE ÓCULOS

CARLOS

NINA

TIAGO

JOÃO

MANUELA

MARCOS

LÚCIA