

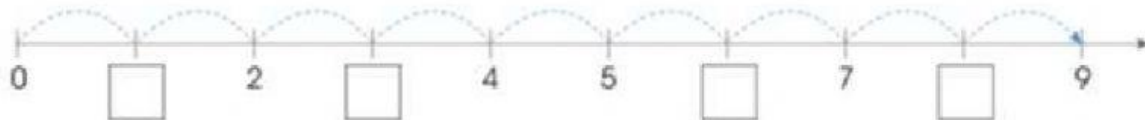
# UNIDAD EDUCATIVA BENJAMÍN FRANKLIN

TALLER ONLINE – 1ER QUIMESTRE – 1ER PARCIAL


Name: \_\_\_\_\_ Date: 23- 06 - 21  
Subject: Matemática Teacher: Miss Ainee Olvera García  
Course: Segundo de Básica



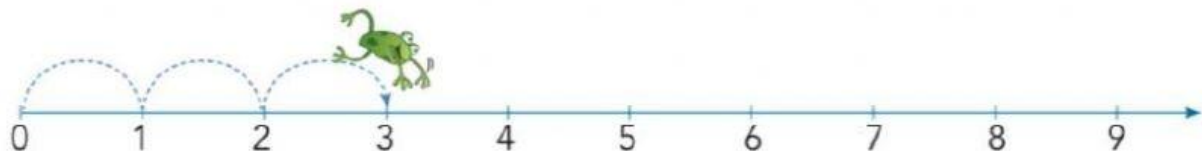
1. **Escribe** los números que faltan en la semirrecta numérica.



2. **Escribe** los números en la semirrecta. Luego, **cuenta** los saltos que dio María y **escribe** el número en el cuadro.



1. **Observa y responde.**



¿A qué número llegó la ranita? \_\_\_\_\_

¿Cuántos saltos le faltan a la ranita para llegar al 9? \_\_\_\_\_

1. **Calcula** cuántos saltos da la ranita.

Para ir del 2 al 5.

Para ir del 5 al 9.

Para ir del 1 al 6.