

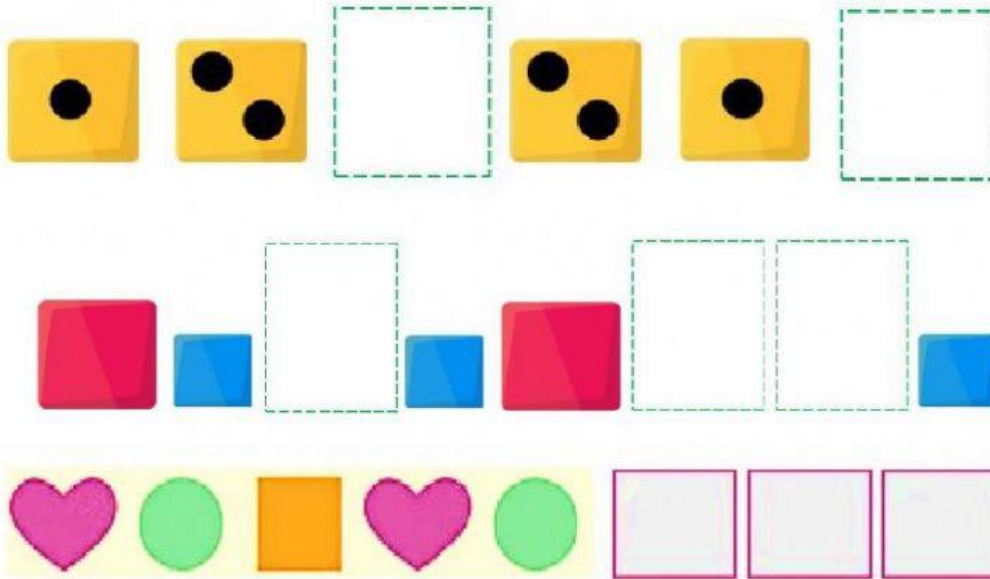


Gimnasio Rincón De Los Ángeles  
Evaluaciones Bimestrales  
Segundo Periodo  
Segundo  
2021

Nombre: \_\_\_\_\_ Fecha: \_\_\_\_\_

Área: Geometría

1. Completa las secuencias

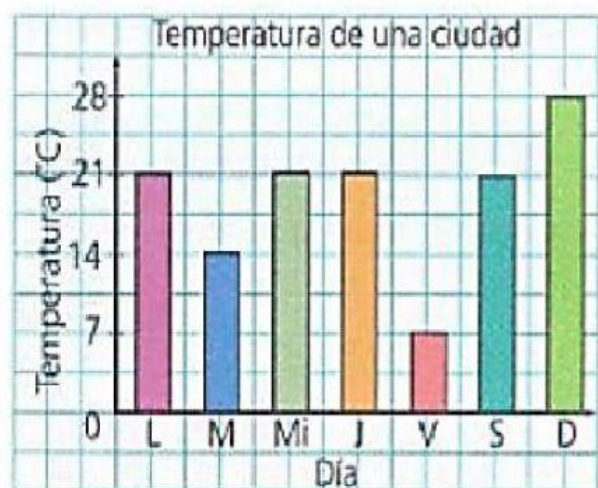


2. Observa la gráfica y responde las preguntas

a. ¿Qué día hizo más calor?

b. ¿Cuál fue la temperatura mínima registrada?

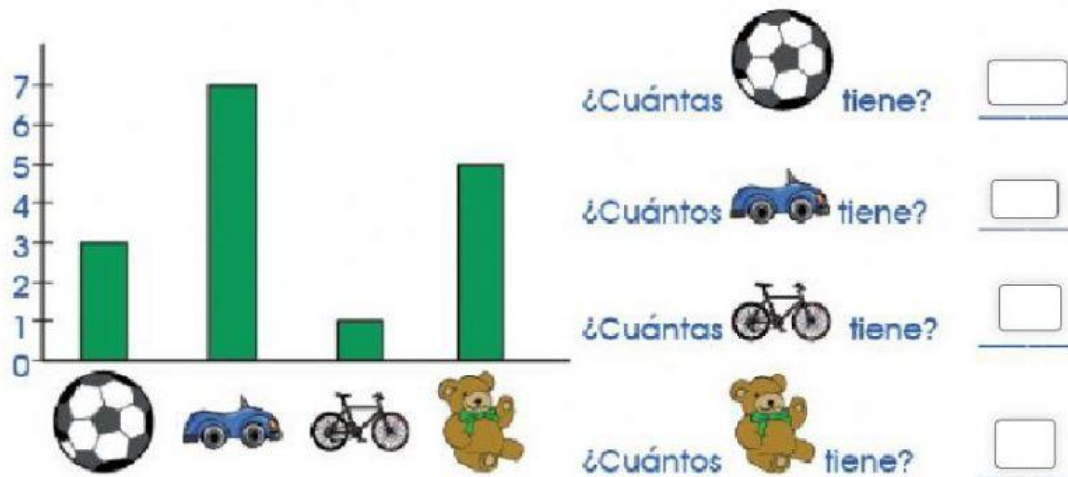
c. ¿Cuál fue la temperatura el día martes?















Gimnasio Rincón De Los Ángeles  
Evaluaciones Bimestrales  
Segundo Periodo  
Segundo  
2021

3. Observa el grafico y completa



4. Cuenta cada la cantidad de carros teniendo en cuenta de que cada imagen de carro representa 6 carros

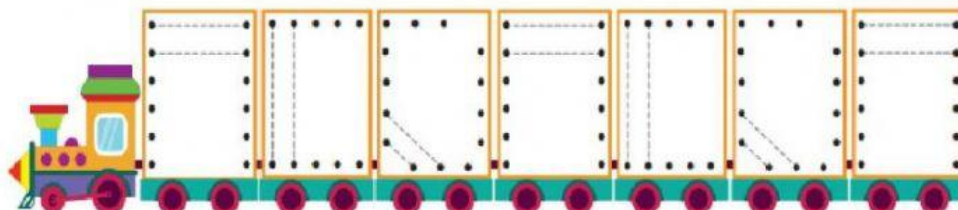
COLOR	CANTIDAD	TOTAL
azul	  	<input type="text"/>
rojo	 	<input type="text"/>
amarillo	    	<input type="text"/>
		<input type="text"/>

Cada  representa 6 carros




**Gimnasio Rincón De Los Ángeles**  
**Evaluaciones Bimestrales**  
**Segundo Periodo**  
**Segundo**  
**2021**

5. Realiza las líneas en verde las horizontales y en rojo las verticales



6. Traza el camino para llegar de la calle amistad a la escuela, pasando por la calle teson y felicidad



7. De acuerdo al plano anterior responde si son paralelas o perpendiculares

La calle de la esperanza y amistad son: \_\_\_\_\_

La calle teson y esperanza son: \_\_\_\_\_

Cual es la paralela de la calle responsabilidad: \_\_\_\_\_





**Gimnasio Rincón De Los Ángeles**  
**Evaluaciones Bimestrales**  
**Segundo Periodo**  
**Segundo**  
**2021**


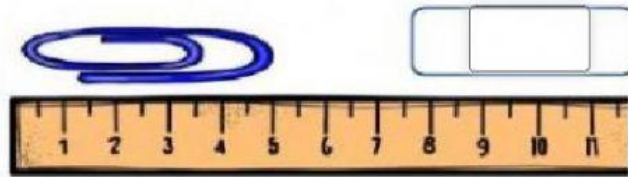
8. Que son las medidas de longitud

---

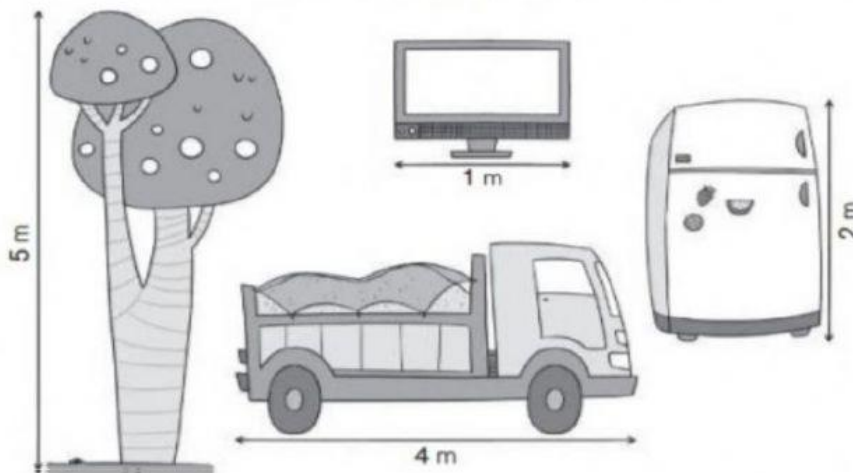


---

9. Observa los objetos y completa cuanto miden



10. Observa las medidas indicadas en cada objeto y completa las tablas



Medida en decímetros	Televisor	Camión	Árbol	Frigorífico
	10 dm	<input type="text"/> dm	<input type="text"/> dm	<input type="text"/> dm
Medida en centímetros	Televisor	Camión	Árbol	Frigorífico
	<input type="text"/> cm	<input type="text"/> cm	<input type="text"/> cm	<input type="text"/> cm