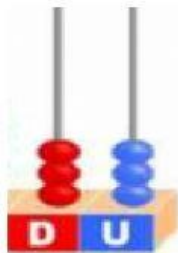


Decenas y Unidades

Nombre: _____




1. Completa la descomposición de cada número:



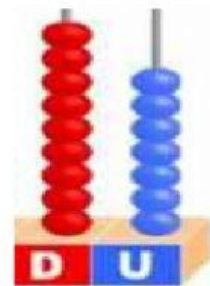
$$\square + \square = \square$$

D	U




$$\square + \square = \square$$

D	U



$$\square + \square = \square$$

D	U



$$\square + \square = \square$$

D	U

2. Escribe los números según corresponda:

