

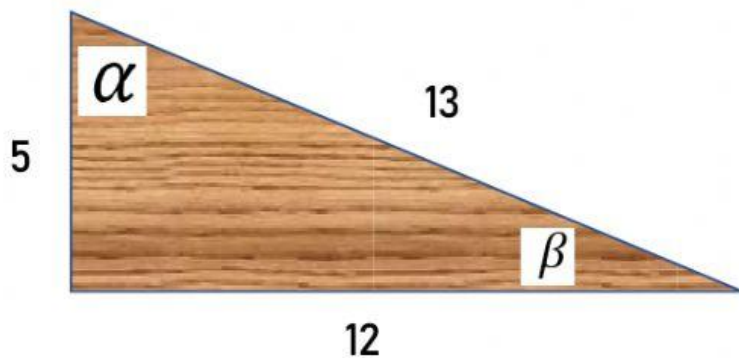


Nombre			
Fecha		Grado y grupo	

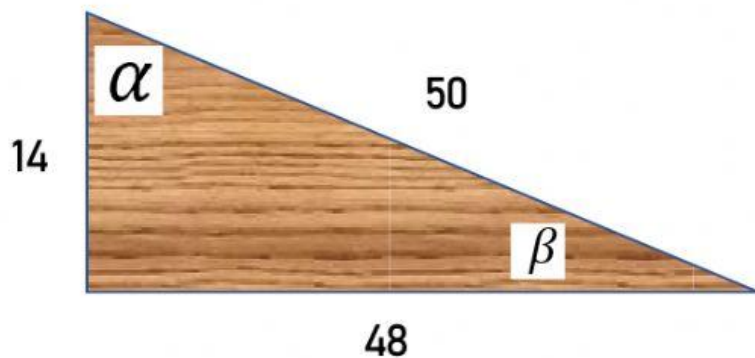
"Cálculo de ángulos en triángulos rectángulos"

Instrucciones: calcula el valor de los siguientes ángulos en cada uno de los siguientes triángulos.

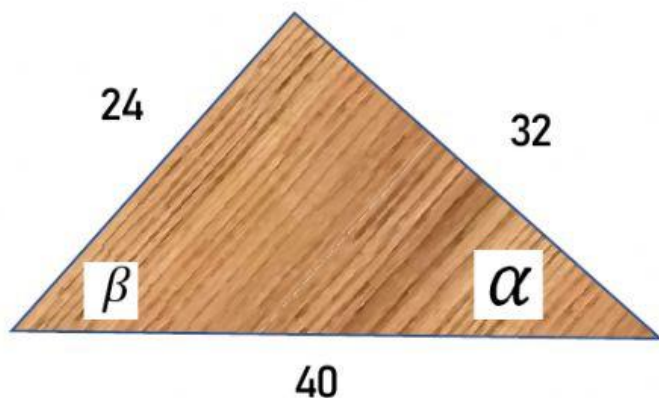
En el resultado anota solo el valor del ángulo, considera el redondeo como se te indicó en clase



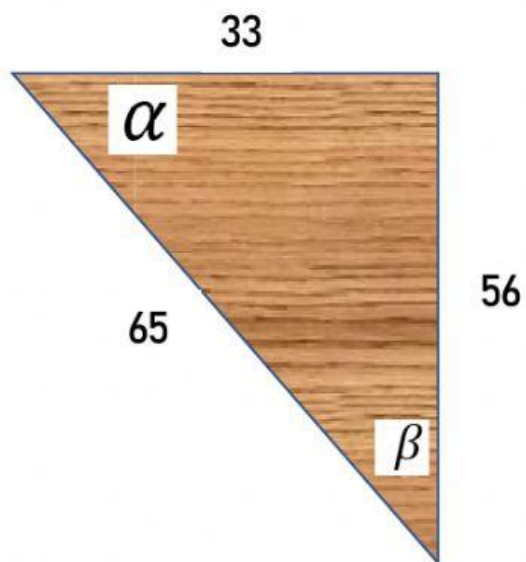
Ángulo α	Ángulo β



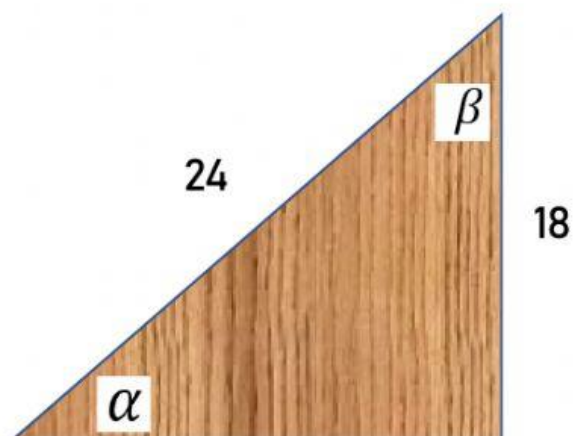
Ángulo α	Ángulo β



<i>Ángulo</i> α	<i>Ángulo</i> β



<i>Ángulo</i> α	<i>Ángulo</i> β



<i>Ángulo</i> α	<i>Ángulo</i> β