

NOME: _____

PROFESSORA: Márcia Campos

DATA: _____

FESTA JUNINA








ATIVIDADE MATEMÁTICA

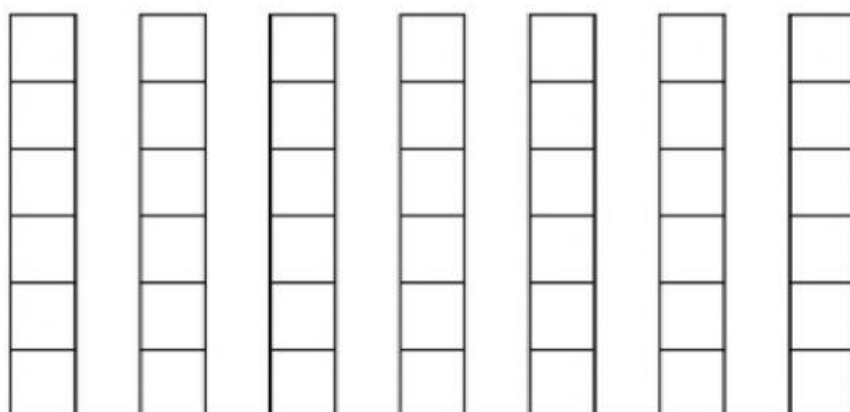
A ROSINHA GANHOU ALGUMAS PRENDAS PARA A BARRACA DA PESCARIA DE UMA FESTA JUNINA. ELA PRECISA CONTAR QUANTAS PRENDAS RECEBEU, AJUDE-A COMPLETANDO A TABELA E DEPOIS O GRÁFICO:



-COMPLETE A TABELA COM OS NUMERAIS REFERENTES À QUANTIDADE DAS PRENDAS:

- AGORA MARQUE AS QUANTIDADES NO GRÁFICO:



QUANTAS PRENDAS ELA RECEBEU AO TODO ? _____

antenadas2013@gmail.com