



UNIDAD EDUCATIVA DEL MILENIO

*"Lcda. Olga Campoverde Campoverde"*

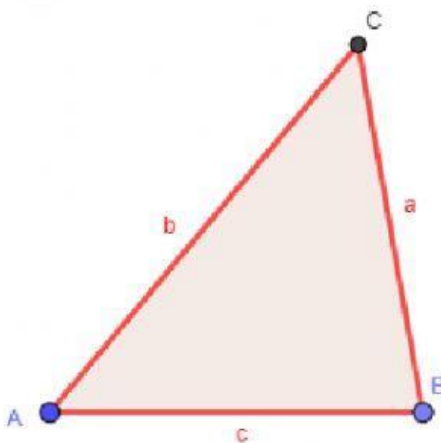
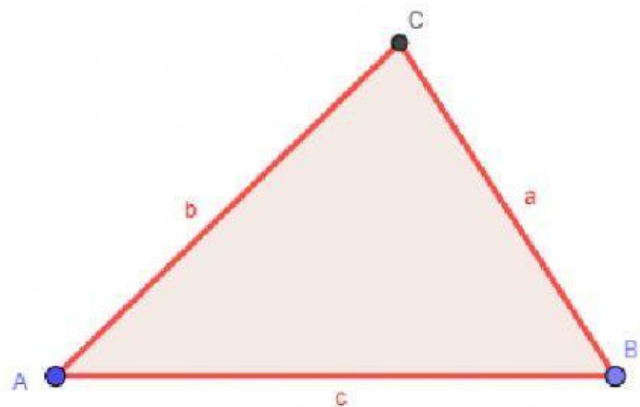
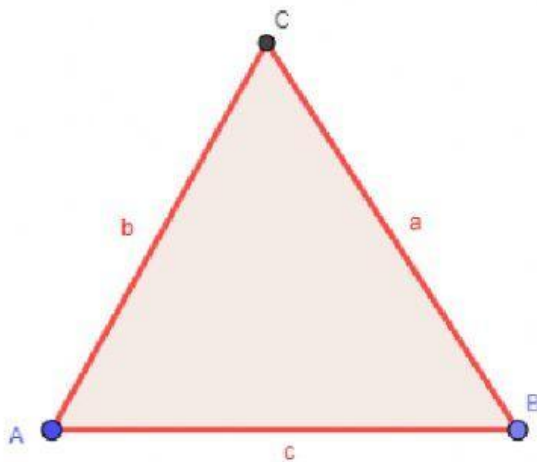
Huaquillas – El Oro – Ecuador

## EVALUACIÓN DE MATEMÁTICA

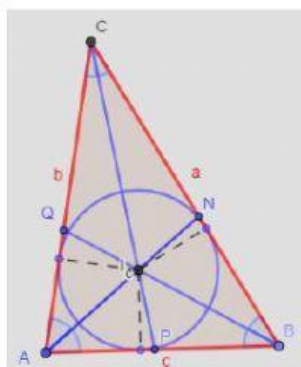
**NOMBRE:**

**FECHA:**

1. Tomando como referencia la vértice C grafica la altura de los siguientes triángulos.



2. Identifica la imagen y une con el tema al que corresponde.



RECTA DE EULER

MEDIANA /  
BARICENTRO

BICETRIZ /  
INCENTRO

ALTURA /  
ORTOCENTRO

MEDIATRIZ /  
CIRCUNCENTRO

