

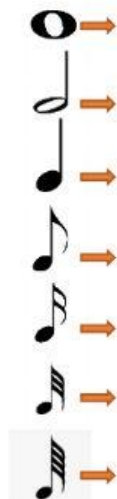
COMPASES

Selecciona las opciones correctas según corresponda a los pulsos por compás, la unidad de pulso y el valor de cada figura.

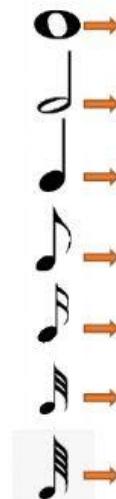
$\frac{2}{2} \rightarrow$
 $\frac{2}{2} \rightarrow$



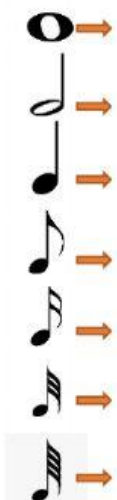
$\frac{3}{4} \rightarrow$
 $\frac{4}{4} \rightarrow$



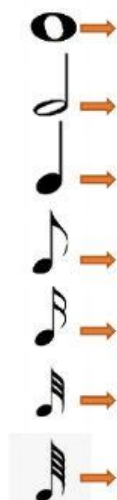
$\frac{4}{2} \rightarrow$
 $\frac{2}{2} \rightarrow$



$\frac{2}{16} \rightarrow$
 $\frac{16}{16} \rightarrow$



$\frac{3}{2} \rightarrow$
 $\frac{2}{2} \rightarrow$



$\frac{4}{8} \rightarrow$
 $\frac{8}{8} \rightarrow$

