

Ciencias Sociales 3°

Actividades de repaso Nivel 1

1. Arrastra el nombre de los continentes y de los océanos ubicándolos en el planisferio.

América

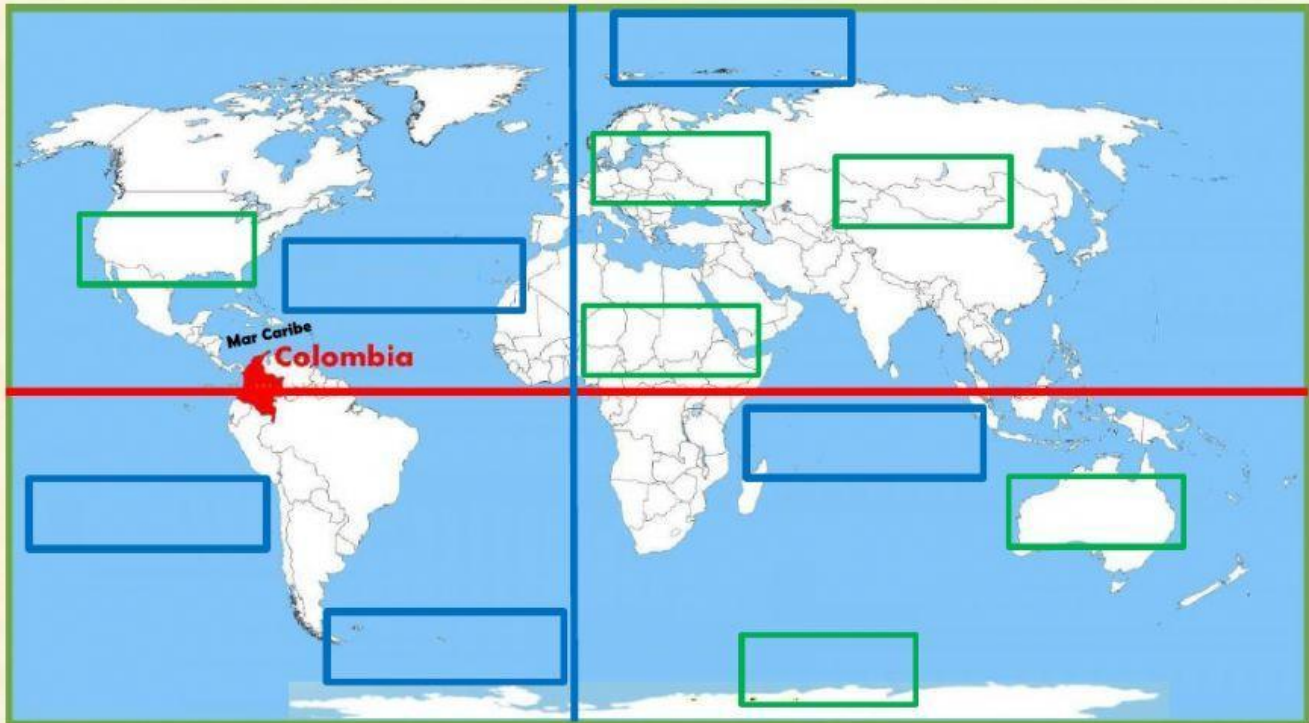
Asia

África

Oceanía

Antártida

Europa



Océano Atlántico

Océano Pacífico

Océano Índico

Océano Ártico

Océano Antártico

2. Selecciona los límites de Europa

- a. Norte
- b. Sur
- c. Este
- d. Oeste



3. Escribe (F) si la afirmación es falsa o (V) si es verdadera según corresponda.

a. Asia es el continente más grande

b. Toda América del Sur se encuentra en el hemisferio sur.....

c. El océano Atlántico está entre América y Europa

d. El océano Índico es el más grande

e. África es el continente más pequeño

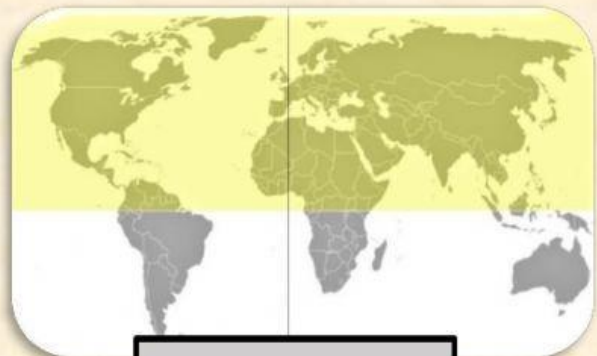
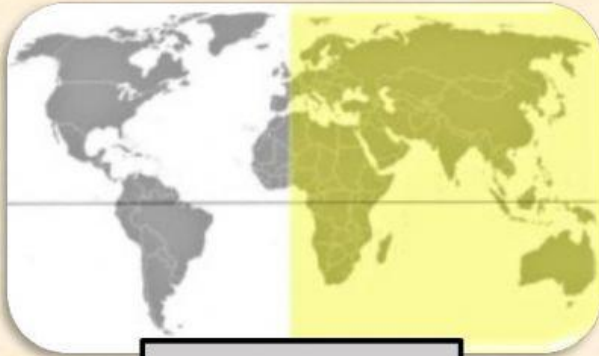
4. Ubica el nombre del hemisferio en el mapa que lo señala correctamente.

Hemisferio Norte

Hemisferio Sur

Hemisferio Oriental

Hemisferio Occidental



5. Señala en cuáles hemisferios se encuentran:

a.

Europa

Hemisferio Norte

Hemisferio Oriental

Hemisferio Sur

Hemisferio Occidental

b.

Asia

Hemisferio Norte

Hemisferio Oriental

Hemisferio Sur

Hemisferio Occidental

c.

Colombia

Hemisferio Norte

Hemisferio Oriental

Hemisferio Sur

Hemisferio Occidental

6. Selecciona las características de los océanos y los mares.

¿Cuáles son las características de los océanos?



De mayor tamaño y profundidad

Están en el borde o dentro de los continentes

De menor tamaño y profundidad

Ocupan la mayor parte de la superficie terrestre

Son cinco

Son sesenta y siete

¿Cuáles son las características de los mares?



De mayor tamaño y profundidad

Están en el borde o dentro de los continentes

De menor tamaño y profundidad

Ocupan la mayor parte de la superficie terrestre

Son cinco

Son sesenta y siete

7. *¿Cuáles son las imágenes que muestran acantilados?*



8. *¿Cuáles son las actividades que pueden realizar las personas en las costas, mares y océanos?*



Extracción de petróleo



Abastecer el acueducto



Turismo y practicar deportes acuáticos



Comercio gracias a los puertos

9. ¿Qué problema ambiental se evidencia en las imágenes?



Finalizamos actividades Nivel 1

