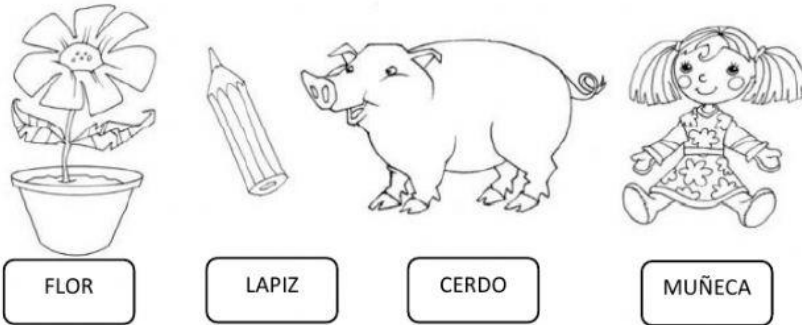




## EVALUACIÓN CIENCIAS NATURALES

### LOS SERES VIVOS

Indica marcando ¿Cuáles son seres vivos? (1 punto cada uno)




Observa las siguientes imágenes y marca tu respuesta correcta. (1 punto cada uno)



	Pregunta	SI	NO
1	¿Todos los seres vivos crecen?	SI	NO
2	¿Pueden tener hijos?	SI	NO
3	Si te acercas a una paloma, ¿volará?	SI	NO

Indica cuál de los animales son ovíparos y cual vivíparo de acuerdo a la forma de dar a luz.

(1 punto cada uno)





Indica el habitat de cada uno de los siguientes animales, arrastra cada habitat al animal que corresponda (1 punto cada uno)

ACUATICO







TERRESTRE- ACUATICO

TERRESTE-HIELO

TERRESTRE

TERRESTRE-ACUATICO-  
AEREO

TERRESTRE- AEREO

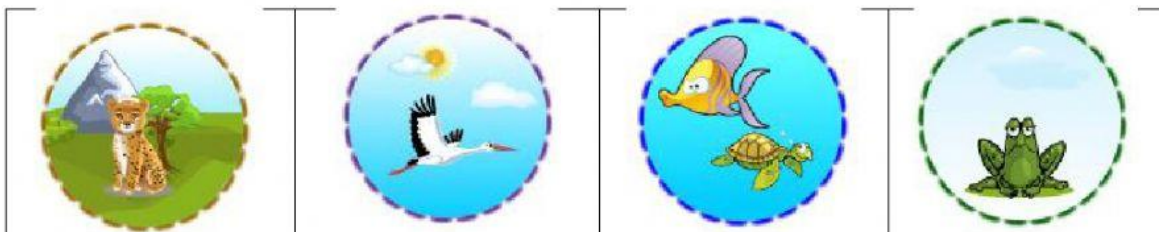
Une la cubierta caporal de cada uno de los animales. (1 punto cada uno)

PIEL  
DESNUDA

PELOS


PLUMAS

PLUMAS

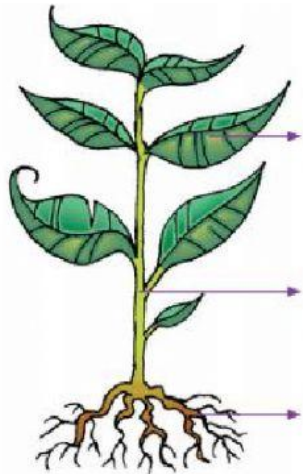




Une con una línea el alimento que le corresponde a cada ser vivo. (1 punto cada uno)



Arrastra las partes de la planta según corresponda. (1 punto cada uno)






Tallo

Raíz



Hoja

Enumera del 1 al 4 desarrollo de una planta. (1 punto cada uno)






Marca lo que necesita una planta para vivir.. (1 punto cada una)



Marca ¿Qué pueden hacer para cuidar el medioambiente?. (1 punto cada uno)



Marca la acción que protege a los animales. (1 punto cada uno)



**NO OLVIDAR:**

Revisar si has respondido todas las preguntas antes de enviar tu evaluación.

