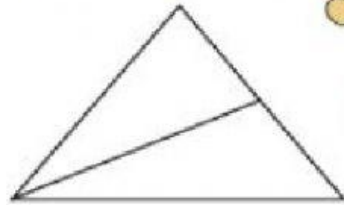




Conteo de Figuras

¿Cuántos triángulos observas en la figura?



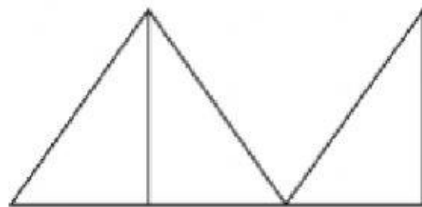
a) 1

b) 2

c) 3

d) 4

¿Cuántos triángulos observas en la figura?



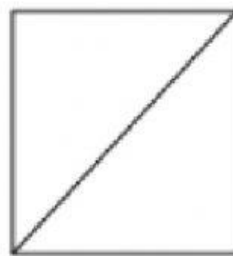
a) 1

b) 2

c) 3

d) 4

¿Cuántos triángulos observas en la figura?



a) 1

b) 2

c) 3

d) 4

