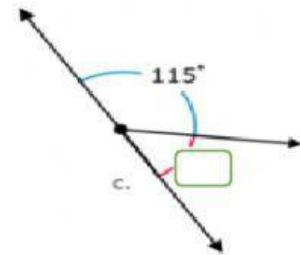
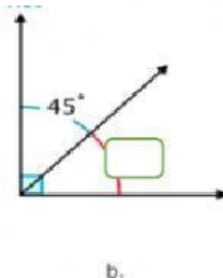
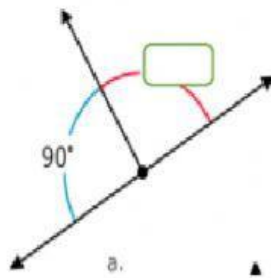


ÁNGULOS SUPLEMENTARIOS Y COMPLEMENTARIOS

Selecciona el ángulo que falta identificando si es suplementario o complementario



Escribe el suplemento y el complemento de cada uno de los siguientes ángulos

Ángulo	Suplemento	Complemento
20°	160	70
75°		
90°		
12°		