


Nombre: \_\_\_\_\_ fecha: \_\_\_\_\_

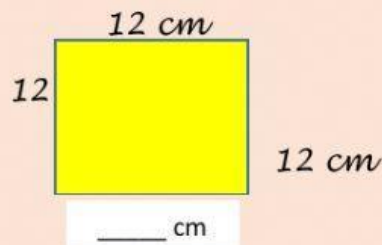
### Perímetro de las figuras geométricas

Hallar el Perímetro de las siguientes figuras completando el valor de sus lados y escribe en el recuadro la respuesta correcta.

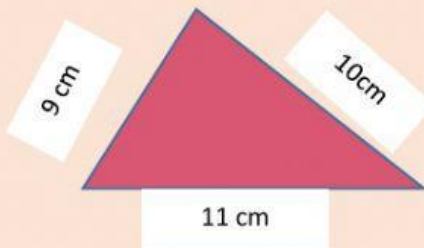


$$P = L + L + L + L$$

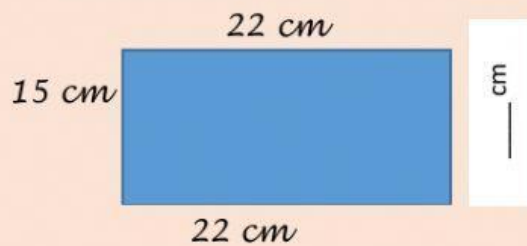
$P =$



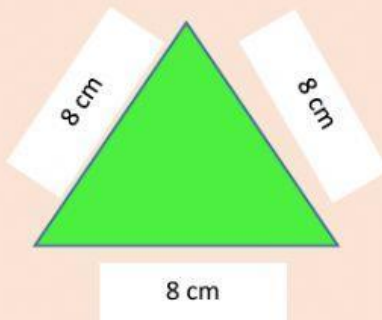
$P =$



$P =$



$P =$



$P =$