




## Series numéricas

1. Escribe los números faltantes en cada serie.

Pista: fíjate de cuánto en cuánto va aumentando.

	De 2 en 2									
	2	4								

	De 3 en 3									
	3	6								

	De 5 en 5									
	5	10								

2. Completar la siguiente serie numérica y marca con una X la respuesta correcta

57	60		66		72	
----	----	--	----	--	----	--

A) 61, 67, 73

B) 63, 69, 75

C) 62, 63, 64

3. Escribe en la recta los números que faltan.

