

PENILAIAN AKHIR TAHUN
TAHUN PELAJARAN 2020/2021

Mata Pelajaran : TEMA 8 SUB TEMA 3 & 4
Kelas : III (Tiga)
Hari/Tanggal :
Waktu :

I. Berilah tanda silang (X) pada huruf a, b, c, dan d pada jawaban yang paling benar pada lembar jawaban yang disediakan !

PKn


1. Pada lambang Garuda Pancasila terdapat semboyan nasional bangsa Indonesia yaitu Bhinneka Tunggal Ika. Semboyan tersebut memiliki arti
 - a. berbeda – beda tetapi tetap satu ras
 - b. bersatu kita teguh bercerai kita runtuh
 - c. berbeda beda tetapi tetap bercerai berai
 - d. berbeda beda tetapi tetap satu jua

2. Perhatikan contoh perilaku berikut !

A.	Bermain dengan teman yang disukainya saja
B.	Memberikan kesempatan teman untuk beribadah
C.	Memanggil teman dengan sebutan yang tidak baik
D.	Tidak makan di depan orang yang sedang berpuasa

Contoh perilaku yang sesuai dengan arti Bhinneka Tunggal Ika adalah

- a. A dan C
 - b. B dan C
 - c. B dan D
 - d. A dan D
3. Perisai yang ada dalam Garuda Pancasila berisi lambang – lambang Pancasila. Sila ke lima dilambangkan dengan



4. Menjaga dan melestarikan lingkungan merupakan pengamalan sila – sila dari Pancasila. Upaya menjaga lingkungan dapat dilakukan dengan cara
- a. membuang limbah di aliran sungai
 - b. melakukan penanaman pohon
 - c. membakar sampah - sampah plastik
 - d. menebangi pohon secara besar – besaran

5. Bencana banjir melanda sebagian wilayah kota tempat tinggal Harun. Bencana tersebut mengakibatkan banyak kerugian. Melihat hal tersebut, Harun dan teman – temannya melakukan kegiatan amal. Kegiatan amal itu bertujuan untuk membantu korban bencana banjir. Sikap harun dan teman – temannya sesuai dengan pengamalan pancasila yaitu sila ke

a. 2
b. 3
c. 4
d. 5

Bahasa Indonesia

6. Perhatikan gambar berikut !



Gambar rambu lalu lintas di samping mengandung arti

a. dilarang parkir
b. dilarang berhenti
c. zebra cross
d. hati – hati

e.

7. Jalan di pegunungan berkelok – kelok dan menanjak. Pengemudi harus hati – hati saat melintasi jalan di pegunungan. Apalagi saat hujan turun, jalanan menjadi licin. Rambu – rambu lalu lintas yang harus ada adalah

a.



b.



c.

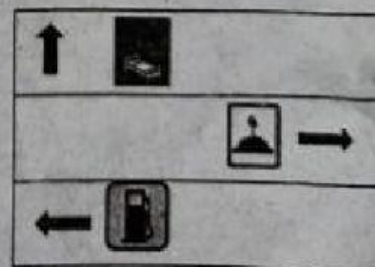


d.



8. Sarah ingin menjenguk Nanik yang sedang sakit di rumah sakit. Untuk menuju rumah sakit arah yang harus dilalui Sarah adalah

a. lurus mengikuti arah jalan
b. belok kiri lalu lurus mengikuti arah jalan
c. belokkanan
d. belok kiri

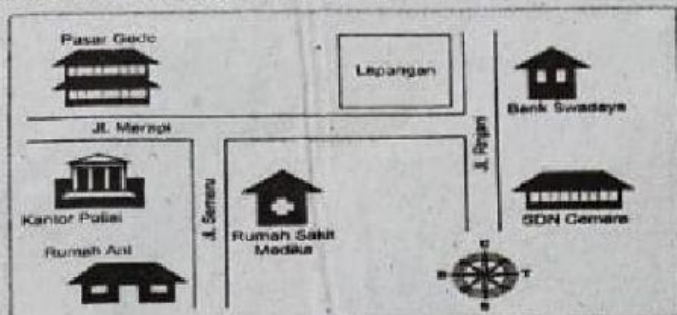


9. Zaenab beragama Islam. Dia ingin pergi ke masjid untuk melaksanakan sholat dzuhur berjamaah. Zaenab harus berjalan ke arah



a. belok kanan
b. belok kiri
c. lurus mengikuti arah jalan
d. ke kiri lalu belok ke kanan

10. Mata angin terdiri atas delapan arah. Arah mata angin dapat digunakan untuk menunjukkan
- jumlah siswa
 - kegemaran siswa
 - waktu setempat
 - lokasi suatu tempat
11. Denah adalah gambar yang menunjukkan lokasi suatu tempat.



Letak Kantor Polisi berada di sebelah pasar gede.

- Utara
- Timur
- Barat
- Selatan

Matematika

12. Hasil laporan barung hijau tentang banyaknya bendera yang ditemukan selama perjalanan mencari jejak. Ada 7 buah bendera berwarna Hijau, 5 buah bendera berwarna merah, 10 buah bendera berwarna biru dan ada 3 bendera berwarna kuning. Tabel yang sesuai dengan pernyataan di atas adalah

a.

Jenis Bendera	Turus	Banyak bendera
Hijau	###	5
Merah	### II	7
Biru	### IIII	10
Kuning	III	3

b.

Jenis Bendera	turus	Banyak bendera
Hijau	### II	7
Merah	###	5
Biru	III	3
Kuning	### IIII	10

c.

Jenis Bendera	turus	Banyak bendera
Hijau	### II	7
Merah	###	5
Biru	### IIII	10
Kuning	III	3

d.

Jenis Bendera	turus	Banyak bendera
Hijau	###—	7
Merah	///	3
Biru	###—///	10
Kuning	###—	5


13. Perhatikan tabel makanan yang disukai anak – anak !

Nama Kue	Jumlah orang
Onde – onde	10
Kelepon	10
Dodol	5
Serabi	25
Kue Lapis	50

Pernyataan yang sesuai dengan tabel di atas adalah

- ada 5 anak yang suka dodol
- ada 10 anak yang suka serabi
- ada 10 anak yang suka kue lapis
- ada 25 anak yang suka kelepon

Diagram berikut untuk soal nomor 14 dan 15.



14. Berdasarkan diagram di atas, rambu lalu lintas dilarang berhenti berjumlah

- 7
- 5
- 3
- 2

15. Jumlah seluruhnya rambu lalu lintas adalah

- 35
- 30
- 25
- 20

16. Siswa kelas III hobby makan buah – buahan. Ada 8 anak yang menyukai buah mangga, dan ada 9 anak yang suka buah apel. Sedangkan yang menyukai buah anggur dan manggis ada 6 anak. Diagram gambar yang sesuai dengan data

20. Perhatikan tabel berikut !

Kode	Kegiatan
A	Cari dan jiplak pola rumah – rumahan
B	Rumah – rumahan kardus bekas sudah jadi
C	Potong kardus sesuai dengan pola
D	Buatlah lipatan pada sudut – sudut rumah
E	Lipatlah rumah dan sambungkan dengan ujung - ujungnya

Urutan langkah – langkah membuat rumah – rumahan dari kardus yang benar adalah

- a. D, C, D, E, B
- b. A, D, C, E, B
- c. D, E, A, C, B
- d. A, C, D, E, B

21. Untuk menyatukan dua buah potongan kertas, kita membutuhkan





- a. gunting
- b. karter
- c. penggaris
- d. Lem

PJOK

22. Dalam permainan gobak sodor dibutuhkan kerjasama tim yang baik dan ... dari masing - masing pemain dalam melewati para penjaga.

- a. keseimbangan
- b. kekuatan
- c. kelincahan
- d. ketahanan

23. Perhatikan gambar berikut !

	
Lompat tali	Igrang
	
Betengan	Engklek


Permainan tradisoinal yang bertujuan untuk melatih ketahanan otot kaki adalah

- a. Ingrang
- b. Engklek
- c. lompat tali
- d. betengan

24. Haris dan teman - temannya sedang bermain ular naga. Kelompok Haris akan dinyatakan menang apabila

- a. anggota kelompok Haris habis terlebih dahulu
- b. anggota kelompok Haris bertambah banyak
- c. anggota kelompok Haris semakin berkurang
- d. anggota kelompok Haris paling banyak

25.



Nama permainan tradisonal di samping adalah

- a. Gobak sodor
- b. Galasin
- c. Ular tangga
- d. Jala ikan