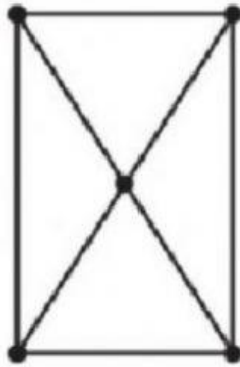



1. ¿Cuántos segmentos hay en la siguiente figura?



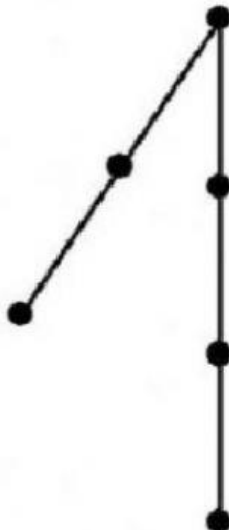
- a) 9      b) 7      c) 10      d) 12

**2.** ¿Cuántos segmentos hay en la siguiente figura?



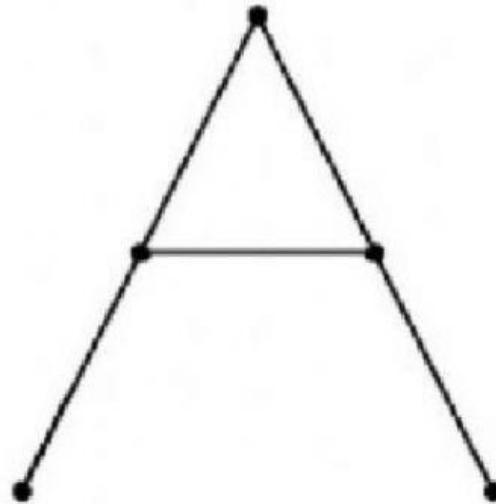
- a) 12      b) 14      c) 16      d) 10

3. ¿Cuántos segmentos hay en la siguiente figura?



- a) 6      b) 8      c) 5      d) 9

4. ¿Cuántos segmentos hay en la siguiente figura?



a) 4

b) 7

c) 6

d) 10

5. ¿Cuántos segmentos hay en la siguiente figura?



5 segmentos

6 segmentos

7 segmentos