



Repaso de Matemáticas

1. Resuelve las siguientes operaciones y arma el rompecabezas.

$20 \div 5 = \square$	$2 \times 3 = \square$
$\begin{array}{r} 79 \\ - 61 \\ \hline \square \end{array}$	$\begin{array}{r} 50 \\ + 60 \\ \hline \square \end{array}$
$\begin{array}{r} \square \\ 68 \\ + 24 \\ \hline \square \end{array}$	$\begin{array}{r} \square \square \\ 74 \\ - 26 \\ \hline \square \end{array}$



2. Escribe en número las siguientes cantidades.

Quinientos cuarenta _____

Ochocientos cuarenta y uno _____

Trescientos cincuenta y seis _____

Setenta y tres _____

Diecisiete _____

Doscientos veinticinco _____

3. Escribe C, D o U según la posición del número resaltado.

9**8**7 _____

736 _____

1**9**6 _____

375 _____

75 _____

180 _____

108 _____

287 _____

4. Une cada figura plana con su nombre.

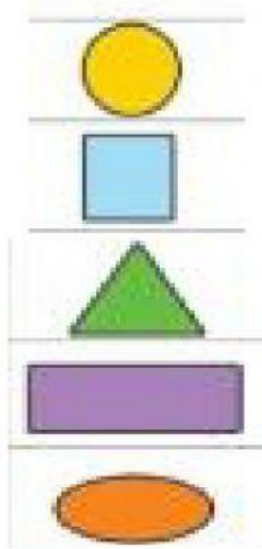
Ovalo

Triangulo

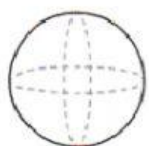
Circulo

Cuadrado

Rectángulo



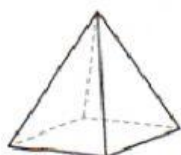
5. Coloca cada cuerpo geométrico con la figura que se parezca.



Esfera



Cubo




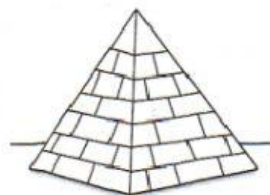
Pirámide



Cilindro



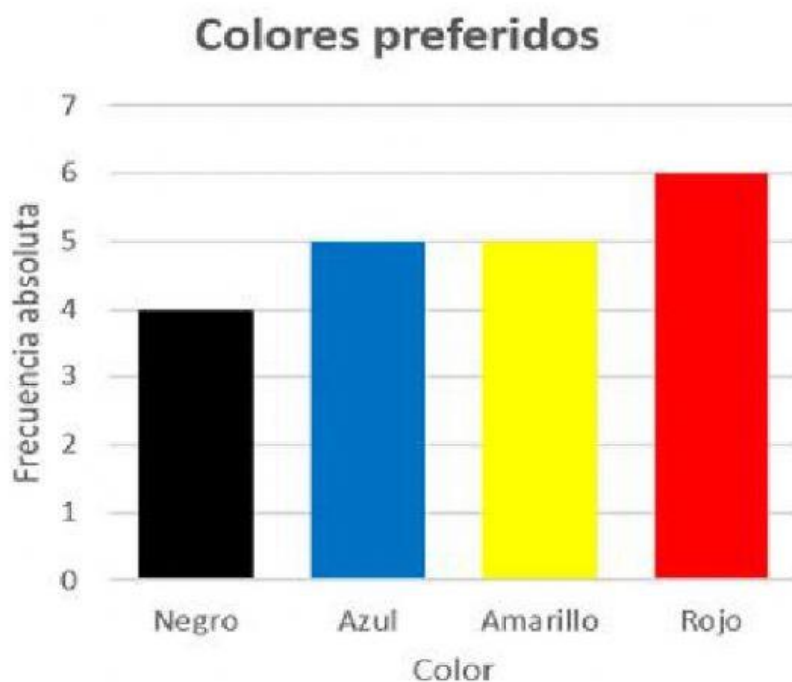
Cono



6. Elige en cada objeto el instrumento que se puede usar para medirlo.



7. Observa el siguiente grafico para elegir la respuesta correcta.



1. ¿Cuál es el color más preferido?
2. ¿Cuál es el color menos preferido?
3. ¿Cuáles colores tienen la misma preferencia?
4. ¿Cuántos votos hubo en total?