


# REPASANDO LAS FIGURAS PLANAS

Escribe el nombre, el número de lados y de vértices de estas figuras.



LADOS

VÉRTICES



LADOS

VÉRTICES




LADOS

VÉRTICES




LADOS

VÉRTICES



LADOS

VÉRTICES



LADOS

VÉRTICES