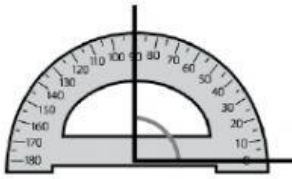
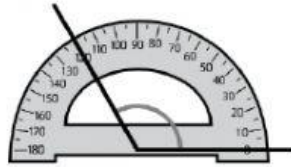


1

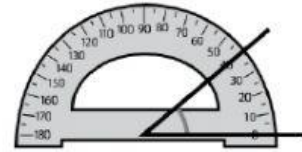
Escribe cuántos grados mide cada uno de los siguientes ángulos.



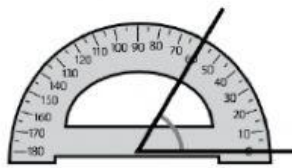
_____ grados



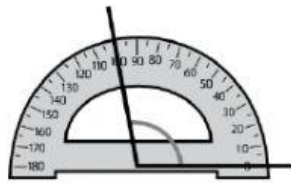
_____ grados



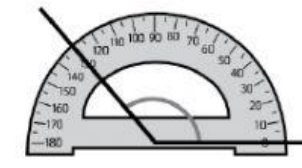
_____ grados



_____ grados



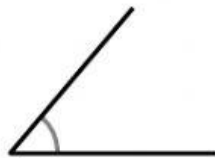
_____ grados



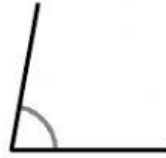
_____ grados

2

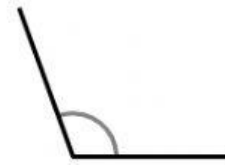
Mide con un transportador y escribe la medida en grados de cada ángulo.



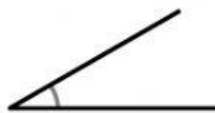
_____ grados



_____ grados



_____ grados



_____ grados



_____ grados



_____ grados

- 1 Mide con un transportador y escribe cuántos grados mide y qué tipo de ángulo es.



Mide: _____

Ángulo: _____



Mide: _____

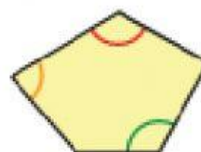
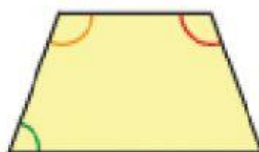
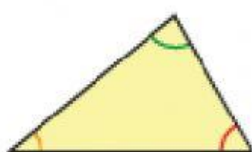
Ángulo: _____






Mide: _____

Ángulo: _____

- 2 Mide con el transportador los ángulos de cada figura y completa la tabla.



			
Triángulo			
Cuadrilátero			
Pentágono			