







| | | | | |
|---|---|---|---|---|
| 4 |  | | | |
| 3 | | |  | |
| 2 | |  | |  |
| 1 |  | |  | |

A B C D

SCRIVI LE COORDINATE
ESATTE

LA  È IN (A, 4)

LA  È IN

LA  È IN

IL  È IN

LA  È IN

IL  È IN