













MIS LOGROS EN MATEMÁTICA

Nombres: _____ Grado: 3ro A-B

GRÁFICO DE BARRAS

1.- Completa el gráfico de barras y responde las preguntas:

						
Niños/as	5	3	10	2	6	4

10						
9						
8						
7						
6						
5						
4						
3						
2						
1						
						

a) ¿Qué fruta hay en mayor cantidad?



b) ¿Qué fruta hay en menor cantidad?



b) ¿Cuántos plátanos y uvas hay en total?

c) ¿Cuántos plátanos más que naranjas hay?

d) ¿Cuántas manzanas menos que peras hay?

e) ¿Cuántos kiwis faltan para completar 10?

