



# DÍA DE ARAGÓN

Se celebra el día 23 de abril en honor a San Jorge, patrón del Reino de Aragón.



Desde 1461, los aragoneses y aragonesas celebran este día con gran orgullo y decoran balcones y ventanas con la bandera y el escudo de Aragón.



Estos tres días vamos a trabajar a través de este



proyecto. Así aprenderemos más curiosidades sobre nuestra tierra que no conocíamos a la vez que repasamos algunos contenidos vistos en clase...

Así, que... empecemos por el principio...







# ¿DÓNDE ESTÁ ARAGÓN?

Aquí debajo podéis ver un mapa político de España. Se llama mapa político porque está dividido en Comunidades Autónomas, si viésemos las montañas y los ríos entonces sería un mapa físico. Pero hay un problema en este mapa, **¡NO APARECEN LOS NOMBRES!**, ¿me ayudas a encontrar Aragón?

## España política (Comunidades Autónomas)



Haz click encima de nuestra comunidad Autónoma, Aragón.







# ¿QUÉ SON LAS PROVINCIAS?

Es la agrupación de varios municipios.

## Y ¿QUÉ SON LOS MUNICIPIOS?



Es la menor división del territorio, está dirigido por el Ayuntamiento y lo forman sus calles y sus gentes.



¡Ah! ¡Vale! Ya lo entiendo, entonces Grañén es un municipio y Huesca es una provincia.

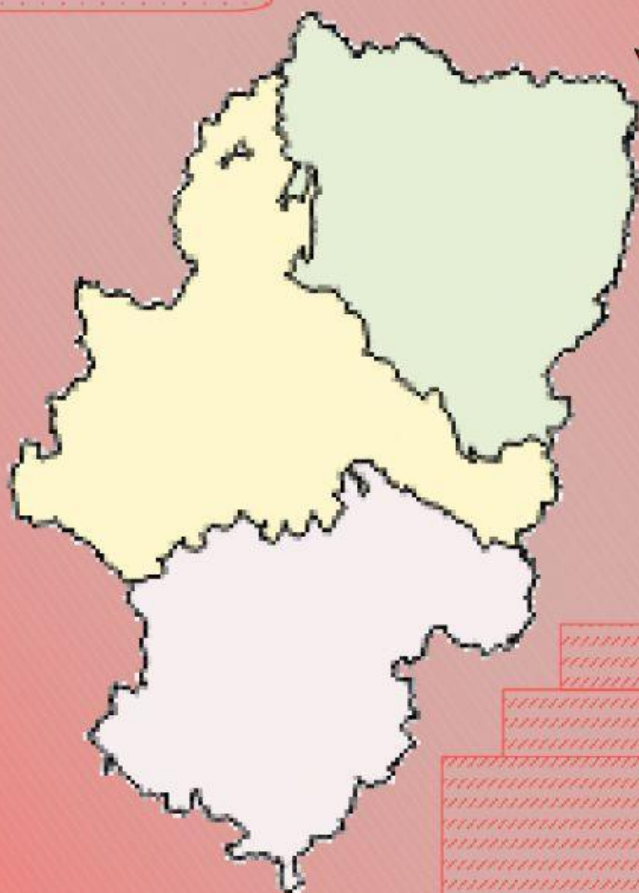
¡Así es! Aragón tiene muchos municipios y muy bonitos, todos ellos están agrupados en provincias pero, ¿sabes cuántas provincias tiene Aragón?







Escribe el nombre de cada una de las provincias que forman Aragón.



Así es nuestra  
Comunidad  
Autónoma...

¿QUERÉIS  
DESCUBRIR MÁS  
CURIOSIDADES SO-  
BRE ARAGÓN?



**¡VAMOS ALLÁ!**







¿POR QUÉ EL DÍA DE ARAGÓN SE DECORAN  
LOS BALCONES CON BANDERAS Y ESCUDOS?  
¿QUÉ SIGNIFICADO TIENEN?



La bandera y el escudo son símbolos de  
nuestra Comunidad. Son dos elementos  
que nos representan y que no están dibuja-  
do ni coloreados al azar. Todo tiene su ex-  
plicación histórica... Descubrámosla....

Haz click en la bandera y en el escudo para descubrir su historia.







Ahora ya sabes cómo son los símbolos de tu comunidad, los que representan a todos los aragoneses y aragonesas. Debemos ser muchos para tener dos símbolos tan importantes y formar una Comunidad Autónoma



Así es, somos un montón.  
Concretamente somos  
**1.324.397** habitantes.

Si redondeásemos este número a las UM,  
sería más fácil decirlo, ¿me ayudas?







Entonces si redondeamos los habitantes de cada provincia y los sumamos... ¿nos saldrá el resultado de antes?




Compruébalo tú mismo...

ZARAGOZA

968.149

habitantes




HUESCA

219.301

habitantes

133.344

habitantes



Redondea cada cifra a la UM y suma.







# Elige la opción correcta...

Redondeo habitantes de la provincia de Zaragoza.



969.000

968.000

Redondeo habitantes de la provincia de Huesca

219.000

220.000



Redondeo habitantes de la provincia de Teruel

133.000

134.000

Ahora ya sabes muchas más cosas de Aragón, por hoy es suficiente, mañana descubriremos más historias sobre nuestra Comunidad Autónoma y sobretodo de ese tal San Jorge...

## HASTA MAÑANA

