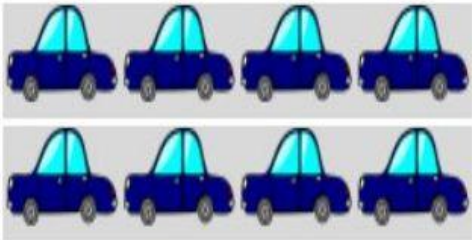


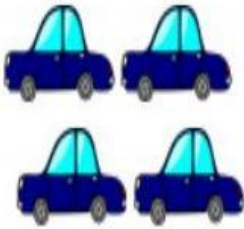
Observa y calcula. ¿Cuántas personas viajan en estos coches?

8 coches



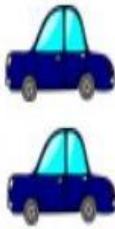
32 personas

4 coches



16 personas

2 coches



8 personas

1 coche



4 personas

12 coches		
coches		
personas		

6 coches		
coches		
personas		
