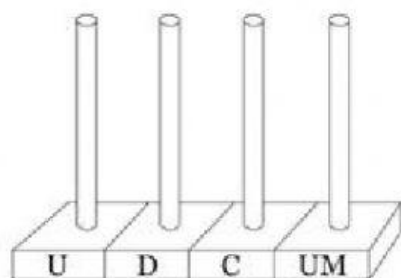
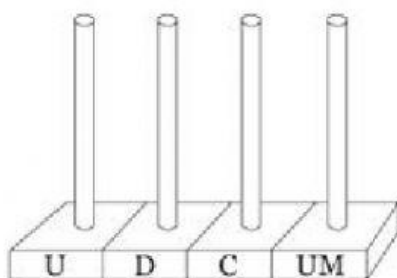


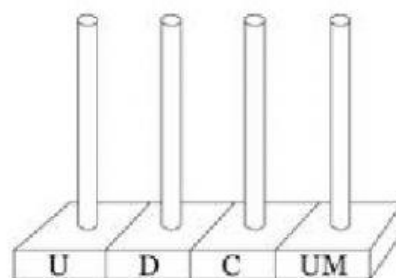
1 a 3.- Completa los cuadros necesarios para formar el número que se te pide.



231



489



1576

4.- Cuenta de 100 en 100. Luego completa la serie.

100	200								1000
-----	-----	--	--	--	--	--	--	--	------

5.- Cuenta de 1 en 1. Luego completa la serie.

1	2								10
---	---	--	--	--	--	--	--	--	----

6.- Cuenta de 10 en 10. Luego completa la serie.

10	20								100
----	----	--	--	--	--	--	--	--	-----

7 a 10.- Escribe mayor que o menor que según corresponda.

989 _____ 263 364 _____ 522

222 _____ 686 483 _____ 574

11 y 12.- ¿Cuánto le falta a 640 para 1000? _____ $1000 - 120 =$ _____

¿Cuánto le falta a 220 para 1000? _____ $1000 - 510 =$ _____

13 a 15.- Resuelve las siguientes operaciones.

$$\boxed{1} \quad \begin{array}{r} 676 \\ +174 \\ \hline \end{array}$$

$$\boxed{2} \quad \begin{array}{r} 480 \\ +222 \\ \hline \end{array}$$

$$\boxed{3} \quad \begin{array}{r} 43 \\ +25 \\ \hline \end{array}$$

16 a 25.- Contesta el cuadro multiplicador.

x	1	2	3	4	5	6	7	8	9	10
1	1	2	3	4	5	6	7	8	9	10
2										
3										
4										
5										
6										
7										
8										
9										

26.- Maribel cuenta los días para su cumpleaños en el calendario. Le falta todo el mes de agosto y 15 días más. ¿Cuántos días le faltan en total? ____

¿Qué quiere saber Maribel? _____

¿Cuánto tiempo falta? _____

¿Cuántos días tiene el mes de agosto? _____

¿Qué operación se debe realizar para saber
Cuántos días faltan para el cumpleaños de Maribel? _____



27.- Tienes las tarjetas del 1, 8, y 7. Usa tres tarjetas para formar un número.

Escribe el número más grande: _____

Escribe el número más pequeño: _____