



Evaluación Final
Lenguaje Musical V Año
2020-2021

1) Construye las escalas y señala los semitonos :

a) Pentáfona tipo Re .



b) Si b menor (variante mel.)



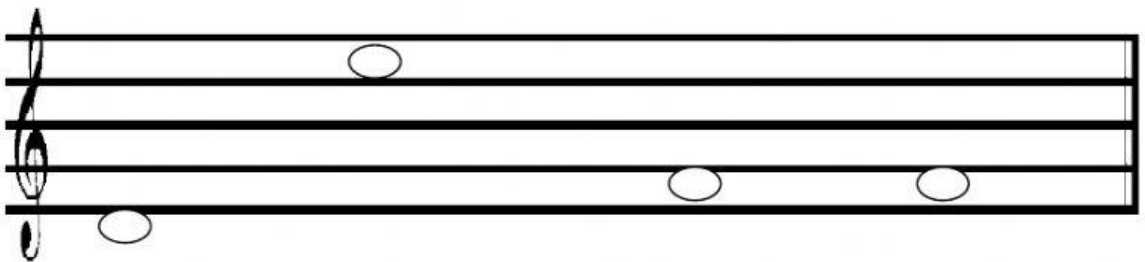
2) Construye los siguientes intervallos:

10ma. M (a)

7ma. m (d)

6ta. M (arm)

7ma.M (a)



3) Escribe la armadura de clave de las siguientes tonalidades y sus relativas menores.

Si b M
Re b M
La M

4) Completa el cuadro:

Compás	U T	U C	USD
6/8			
2/8			

5) Construye las siguientes tríadas y acordes

A
m
D
M
m
V7

6) Reconoce los siguientes adornos:

a)
b)
c)