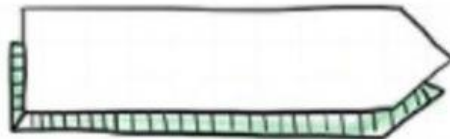
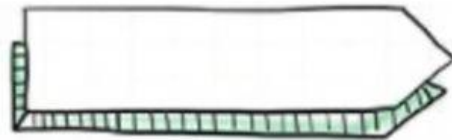



AMBIENTAL

Escribe: ¿Qué es una cadena Alimenticia?

Escribe tres grupos de las relaciones interespecíficas:



Completa la cadena Alimenticia

Cadenas Alimenticias

Cadenas tróficas



Flujo de materia y energía

