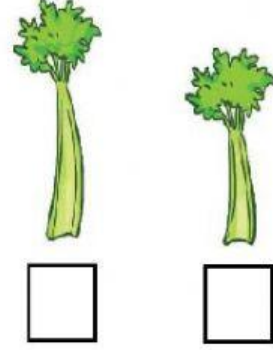
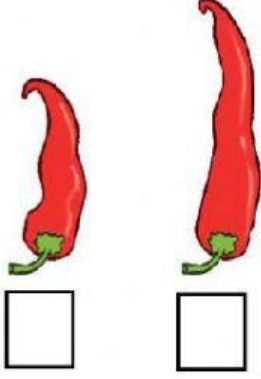
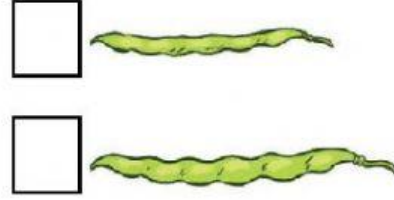


EN UZUN - EN KISA



1 Aşağıdaki nesnelere **daha uzun** olanı işaretleyin.



2 Aşağıdaki nesnelere **daha kısa** olanı işaretleyin.



3 Aşağıdaki nesnelere **en uzun** olanı işaretleyiniz.



4 Aşağıdaki nesnelere **en kısa** olanı işaretleyiniz.

