



Evaluación Final
Lenguaje Musical III Año
2020-2021

1) Construye las siguientes escalas y señala los semitonos:

a) Si b Mayor



a) Do m (variante melódica)



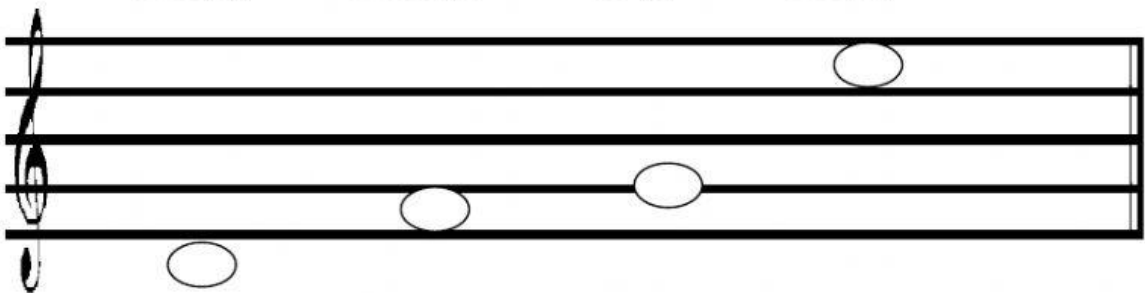
2) Construye los siguientes intervalos.

3 M (a)

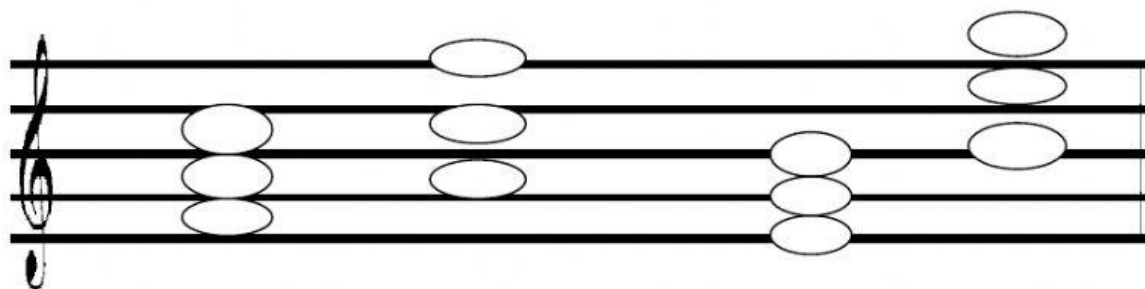
4ta. J (d)

5J (a)

6 M (d)



3) Identifica las siguientes tríadas y sus inversiones. (4ptos).



4) Completa:

- a) Allegretto es un aire _____.
- b) P, F, MF, PP, FF son indicaciones de _____.
- c) El VI grado de una escala se llama _____.
- d) Dolce, Apasionado son indicaciones de _____.

5) Reconocimiento de intervalos

- a) _____ b) _____ c) _____

6) Reconocimiento de escala:

- a) _____ b) _____ c) _____