

# LAS FRACCIONES



1. Arrastra las partes de una fracción

DENOMINADOR

**4**



**5**

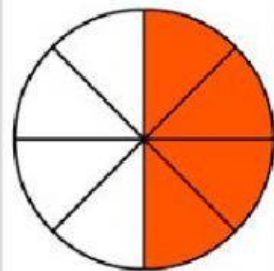
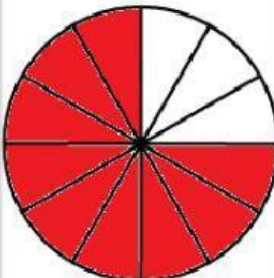
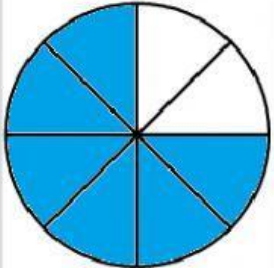
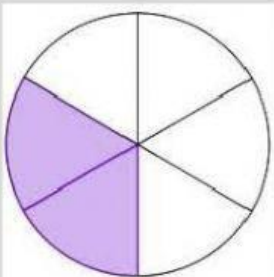
NUMERADOR

**7**



**8**

2. Une con una flecha según corresponda.



**$\frac{6}{8}$**

**$\frac{2}{6}$**

**$\frac{4}{8}$**

**$\frac{9}{12}$**