

UNIDADE ESCOLAR: E.M. MARLENE HENRIQUE ALVES

Aluno(a):

Data:

Professor(a):

Turma: 3º ano

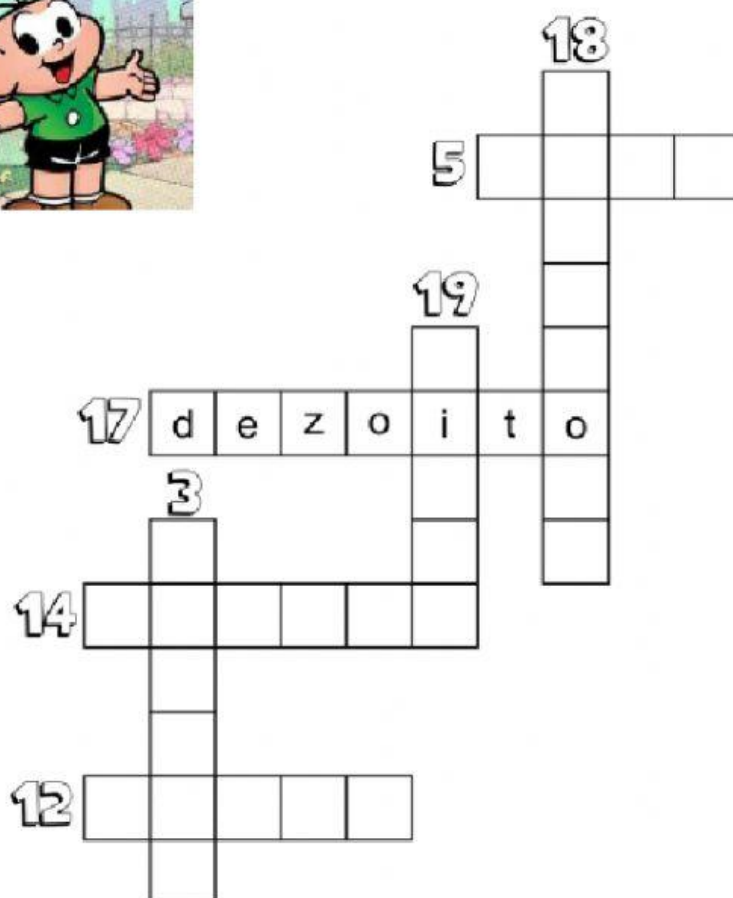
Componente Curricular: Matemática

Habilidades: (EF03MA02) Identificar características do sistema de numeração decimal, utilizando a composição e decomposição de número natural até quatro ordens.

1- Mônica e a sua turma, além de cuidar do ambiente, gostam de brincar. A brincadeira é: Escrever por extenso os sucessores dos números indicados e completar a cruzadinha. Capriche!



A BRINCADEIRA É: ESCRIVER POR EXTENSO OS SUCESSORES DOS
NÚMEROS INDICADOS E COMPLETAR A CRUZADINHA. CAPRICHE!




































ELES BRINCAM, MAS A LUTA PELA PRESERVAÇÃO DO MEIO AMBIENTE CONTINUA.

2- MÔNICA E SEUS AMIGOS LANÇARAM UMA CAMPANHA PARA ECONOMIZAR ÁGUA, COM O OBJETIVO DE AJUDAR O MEIO AMBIENTE. OBSERVE OS VASILHAMES E A QUANTIDADE DE ÁGUA ECONOMIZADA QUE CABE EM CADA UM. AGORA, COMPLETE COLOCANDO A QUANTIDADE ECONOMIZADA A CADA DIA.



Segunda-feira									
Terça-feira									
Quarta-feira									
Quinta-feira									

- EM QUAL DIA DA SEMANA FOI ECONOMIZADA MAIS ÁGUA?

- EM QUAL DIA DA SEMANA FOI ECONOMIZADA MENOS ÁGUA?

- QUANTOS LITROS DE ÁGUA ELES CONSEGUIRAM ECONOMIZAR NA SEMANA TODA? _____

Fonte: www.pae-seduct-campos.com