


FICHAS DE LAS ÁREAS DEL CUADRADO Y RECTÁNGULO

1. Fíjate en este cuadrado y selecciona las respuestas correctas.




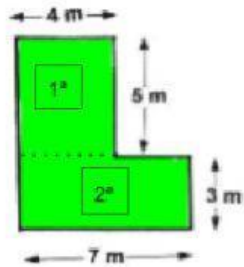
- a) ¿Qué fórmula utilizarías para resolver el área? →
- b) Sin hacer la operación y mediante el cálculo mental, ¿cuál es su área? →
- c) ¿Cuál es su perímetro? →

2. Fíjate en este rectángulo y selecciona las respuestas correctas.



- d) ¿Qué fórmula utilizarías para resolver el área? →
- e) Sin hacer la operación y mediante el cálculo mental, ¿cuál es su área? →
- f) ¿Cuál es su perímetro? →

3. La piscina de mi amigo tiene esta forma, fíjate en la figura que forma y selecciona las respuestas correctas.

La piscina	La figura y medidas de la piscina.
	

g) ¿Cuál es el área de la 1ª figura?	i) ¿Cuál es el área de la piscina en total?
h) ¿Cuál es el área de la 2ª figura?	j) ¿Cuál es el perímetro de la piscina?