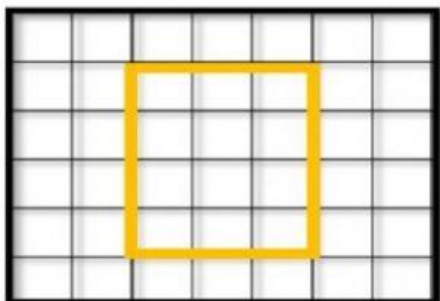


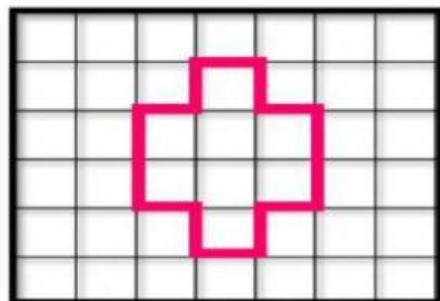
¡REFUERZO MI APRENDIZAJE!

- Halla el perímetro (P) o borde de las siguientes figuras, teniendo en cuenta que cada cuadrado es igual a una unidad.



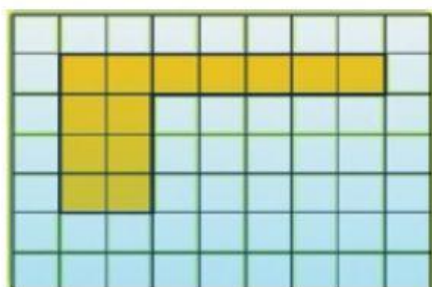
P= _____ + _____ + _____ + _____

P= _____ unidades.



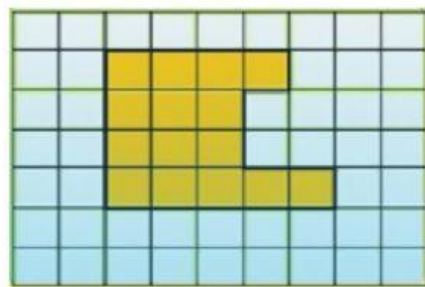
P= _____

P= _____ unidades.



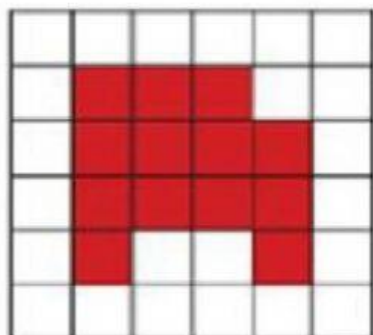
P= _____

P= _____ unidades.



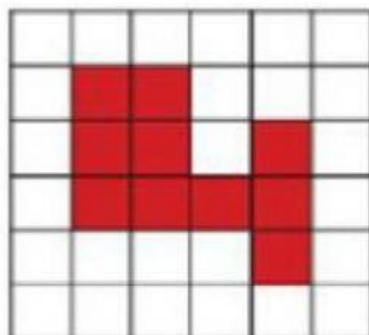
P= _____

P= _____ unidades.



P= _____

P= _____ unidades.



P= _____

P= _____ unidades.