

# MATEMÁTICA – 3rd GRADE

## REVISANDO MIS APRENDIZAJES SOBRE ÁNGULOS

1. Observa los ángulos señalados en la imagen y relaciónalos según los colores indicados y su clasificación.



Ángulo **amarillo**

Ángulo **naranja**

Ángulo **rojo**

Ángulo recto

Ángulo obtuso

Ángulo agudo

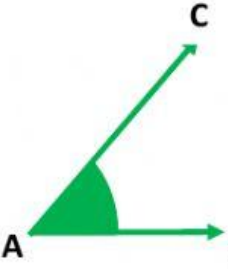
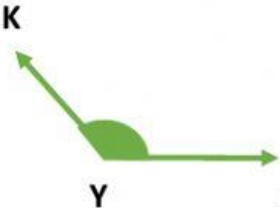
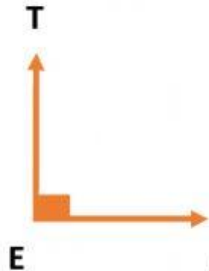



2. Observa nuevamente la imagen, identifica los ángulos señalados con diferentes colores y coloca el número encontrado por cada tipo.

Hay .... ángulos agudos

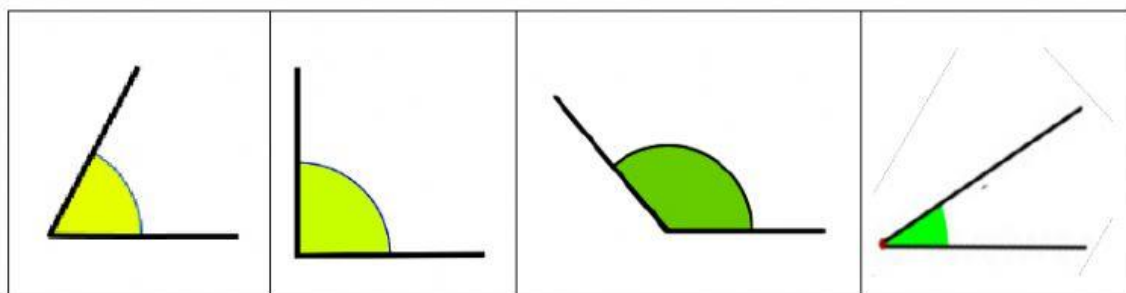
Hay ..... ángulos obtusos

Hay ..... ángulos rectos

3. Completa la escritura de los ángulos (recuerda hacerlo en mayúsculas y sin separaciones)

4. Selecciona el ángulo de menor medida.



5. Usa el transportador para medir los ángulos

