
 Manahej	Département de Sciences	Fiche de révision: Les plantes et les saisons
	Eb 2:	

Exercice 1:


1. Relie convenablement.



L'automne



L'hiver



Le printemps



L'été

2. Mets en ordre les noms des **saisons** en commençant par le printemps.

L'hiver

L'automne

L'été

Le printemps

Exercice 2:

Lis le texte puis réponds aux questions suivantes.

À chaque saison ses plantes et ses fruits. Les fruits comme les fraises , les cerises , et les nêfles , mûrissent au **printemps**. Or, les fruits comme la pastèque , le melon , le mango  et les raisins  mûrissent en **été**.


1. Remplis le digramme ci-dessous.

L'idée principale

Détail 1

Détail 2

2. Classe les fruits en **fruits** qui mûrissent en été et en **fruits** qui mûrissent au printemps.



Au printemps	En été

3. **Compte** les fruits qui mûrissent :

a. en été.

b. au printemps.

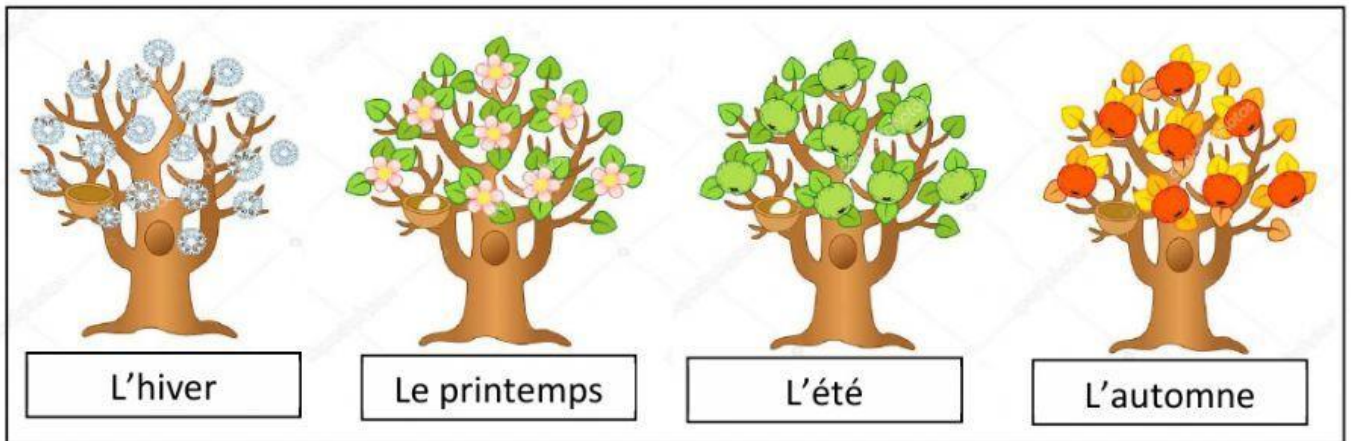
- Indique le nombre le plus grand.

4. **Complète** la phrase suivante.

La saison la plus riche en fruits est .

Exercice 3 : Le pommier

Observe le document ci-dessous puis réponds aux questions suivantes.



1. **Lis** chaque phrase puis indique la saison convenable :

a. Les feuilles et les fleurs apparaissent.

b. Les fruits mûrissent.

c. Le pommier ne possède pas de feuilles.

2. **Indique** si le pommier change d'aspect au cours des saisons.

Oui

Non

3. **Nomme** un arbre qui ne change pas d'aspect au cours des saisons.