

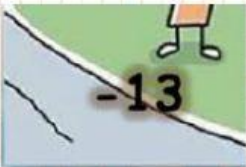





MATEMÁTICA


1. Ordenamos en forma creciente:

+8
+7
-8
-5
20
-1


--	--	--	--	--	--

2. Analizamos y armamos el rompecabezas:


		El n° entero que representa: 5° C sobre cero.	El n° entero que representa: 9° C bajo cero	El n° entero que representa: 12m sobre el nivel del mar.
		¿Qué número es el mayor? -14 ó -20	¿Qué número es el mayor? -20 ó 8	¿Qué número es el menor? -3 ó -1
		El n° entero que representa: Tengo s/ 4	El n° entero que representa: Te debo 13	Tengo 8 Te debo 28 ¿Cuánto cuánto te debo?



Vaya! Aquí llegan estos



ser un problema



3. Analiza y coloca verdadero(V) o falso(F):

- a) Los números enteros se representan con la letra: Z ()
- b) La temperatura del polo norte es: positivo. ()
- c) Los n° negativos siempre deben tener el signo menos. ()
- d) El cero tiene signo positivo. ()