

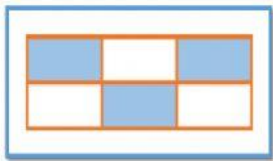
HOJA DE TRABAJO

Instrucciones:

1. Completa cómo se leen y cómo se escriben las siguientes fracciones:

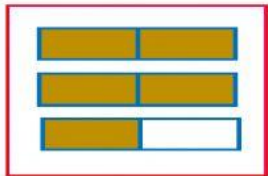
<ul style="list-style-type: none"> • $\frac{4}{7} =$ _____ 	<ul style="list-style-type: none"> • Dos tercios _____
<ul style="list-style-type: none"> • $\frac{3}{8} =$ _____ 	<ul style="list-style-type: none"> • Un medio _____
<ul style="list-style-type: none"> • $\frac{17}{4} =$ _____ 	<ul style="list-style-type: none"> • Trece octavos _____
<ul style="list-style-type: none"> • $\frac{11}{5} =$ _____ 	<ul style="list-style-type: none"> • Seis novenos _____

2. Observa cada gráfica y selecciona si es propia o impropia



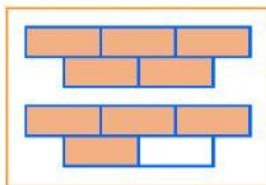
Propia

Impropia



Impropia

Propia



Propia

Impropia



Propia

Impropia