

REPASO CONTROL TEMA 5

1. Escribe qué tipo de fuente histórica que es cada una de estas imágenes:









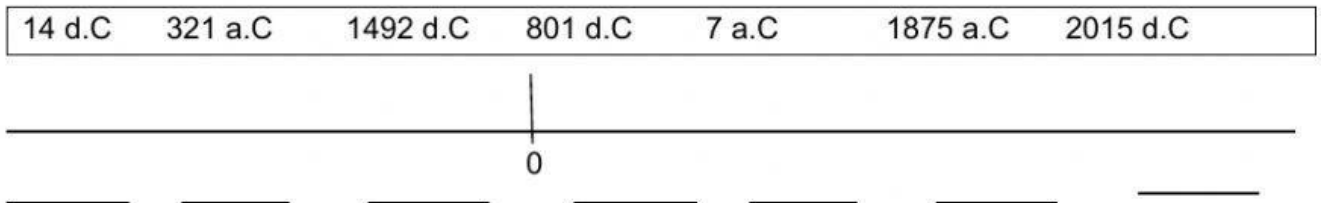








2. Ordena en una línea del tiempo las siguientes fechas:



3. Indica qué siglos son:

- | | | |
|--|-----------------------------|-----------------------------|
| - XII: <input type="text" value="SIGLO 12"/> | - XXI: <input type="text"/> | - II: <input type="text"/> |
| - VI: <input type="text"/> | - IV: <input type="text"/> | - XVI: <input type="text"/> |

4. Escribe a qué siglo pertenecen los siguientes años:

- | | | |
|--------------------|------------------|-------------------|
| - 1.257 d.C: _____ | - 56 a.C: _____ | - 2021 d.C: _____ |
| - 976 d.C: _____ | - 549 a.C: _____ | - 1500 a.C: _____ |







5. Escribe en cada caso el nombre de los pueblos prerromanos de la península ibérica.



6. Marca con una V las oraciones verdaderas y con una F las falsas.

- Los pueblos del norte de la península ibérica son conocidos como celtíberos.
- Los íberos vivían en castros.
- Los tartesios formaron el primer reino conocido de la península ibérica.
- Los íberos vivían en poblados fortificados gobernados por un rey.
- Galaicos, cántabros, astures y vascones eran conocidos como pueblos celtas.

7. Escribe el nombre de estos utensilios de la prehistoria y la etapa a la que pertenecen:

		
<input style="width: 100%; height: 20px;" type="text"/>	<input style="width: 100%; height: 20px;" type="text"/>	<input style="width: 100%; height: 20px;" type="text"/>
		
<input style="width: 100%; height: 20px;" type="text"/>	<input style="width: 100%; height: 20px;" type="text"/>	<input style="width: 100%; height: 20px;" type="text"/>

8. Escribe el nombre de los principales inventos de cada una de las etapas de la prehistoria.

PALEOLÍTICO: _____

NEOLÍTICO: _____

EDAD DE LOS METALES: _____

9. Completa la siguiente línea del tiempo con ETAPAS, AÑOS, Y ACONTECIMIENTOS

