

## PERCOBAAN

Nama

Kelas

1. Pilihan Ganda (*Memilih satu jawaban benar dari tiap soal*)

Yang merupakan bangun datar segiempat, kecuali ...

- A. Persegi
- B. Layang-layang
- C. Trapesium
- D. Segitiga


2. Pilihan Ganda Kompleks (*Memilih lebih dari satu jawaban benar dalam satu soal*)




Pernyataan yang benar dari diagram diatas adalah...

- A. Siswa kelas 7 SMP 2 lebih banyak dari SMP yang lain
- B. Siswa kelas 8 SMP 3 lebih sedikit dari SMP 2
- C. Jumlah siswa SMP 1 lebih banyak dari SMP yang lain
- D. Jumlah siswa Kelas 9 pada semua SMP adalah 114 orang

3. Menjodohkan (*Menjawab dengan menarik garis dari satu titik ke titik lainnya yang merupakan pasangan*)



Berpotongan



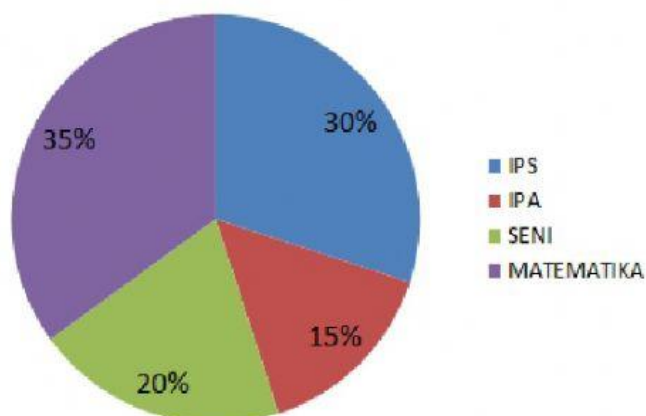
Sejajar

4. Isian (*menjawab berupa bilangan, kata untuk menyebutkan nama benda, tempat, atau jawaban pasti*)

Pada suatu hari Ria menjual Kerupuk dengan modal Rp.25.000, setelah kerupuk tersebut habis terjual Ria mendapatkan uang sebanyak Rp.30.000. Apakah Ria untung atau rugi ....

5. Essay (*menjawab soal berupa kalimat untuk menjelaskan jawabannya, atau langkah penyelesaian*)

Mata Pelajaran Yang Disukai Siswa



Jumlah siswa keseluruhan 180 orang, jika dilihat pada diagram lingkaran diatas. Jumlah siswa yang menyukai seni adalah ...