


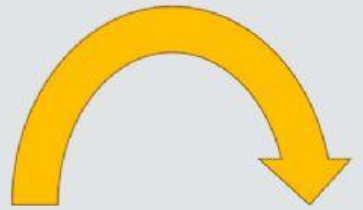



# Figuras congruentes y simétricas

Elige si las figuras son congruentes o semejantes



Elige las figuras que si son simétricas



## Elige la respuesta correcta.

- + Es la línea que divide una figura simétrica en dos figuras congruentes.
- + Figura que al dividirla en dos, cada lado es igual o congruente.
- + Son figuras que son iguales en tamaño y forma.
- + Son figuras que son iguales pero con un tamaño diferente.