

Historia 5to grado Primaria

Bloque 5: "México al final del siglo XX y los albores del XXI"

Subtema 1: "Panorama del periodo"

Instrucciones: con ayuda de la línea del tiempo de tu libro de historia en las páginas 162 y 163, resuelve el siguiente ejercicio uniendo con líneas el acontecimiento con el nombre del presidente que se encontraba en ese momento.


Se produce la crisis económica de 1994-1995.

Inicia la alternancia en el poder.

Se conmemora el Bicentenario de la Independencia y el Centenario de la Revolución.

Se produce un sismo en la Ciudad de México que causa gran destrucción y muerte.

Entrada en vigor del (TLC) Tratado de Libre Comercio entre Canadá, Estados Unidos y México, en la década de los noventa.



Miguel de la Madrid Hurtado

Carlos Salinas de Gortari



Vicente Fox Quezada

Ernesto Zedillo Ponce de León



Felipe Calderón Hinojosa

Instrucciones: con ayuda del siguiente mapa que se encuentra a continuación, así como también con ayuda del mapa que se encuentra en la página 163 de tu libro de historia, responde la siguiente pregunta.



¿Cuáles son los estados que presentan mayor migración en México?

- a) Jalisco, Nuevo León, Guerrero y Quintana Roo.
- b) Nayarit, Zacatecas, Guanajuato y Michoacán.
- c) Baja California, Sonora, Sinaloa y Chihuahua.

Subtema 2: "La situación económica en el país y la apertura comercial"

Instrucciones: con apoyo de tu libro de historia en las páginas 166 y 167 responde las siguientes preguntas.

1.- ¿Qué consecuencias tuvo para la moneda mexicana el incremento de la deuda que tenía el país con los bancos extranjeros?

- a) El peso aumentó de valor frente al dólar.
- b) Se mantuvieron en el mismo valor.
- c) La devaluación del peso perdió su valor frente al dólar.

2.- ¿Qué es la inflación?

- a) Con éste acuerdo se pretendía que México sus exportaciones a dichos países y que pudiera adquirir artículos extranjeros a menor costo.
- b) Con la Unión Europea y países como Chile, Guatemala, Venezuela, Colombia, Bolivia, Israel y Japón.
- c) Se usa para referirse al aumento generalizado de los precios, por lo que al subir los costos, el dinero alcanza para comprar menos productos y servicios.

3.- ¿Con qué otros países a firmado México tratados de libre comercio?

- a) Con éste acuerdo se pretendía que México sus exportaciones a dichos países y que pudiera adquirir artículos extranjeros a menor costo.
- b) Con la Unión Europea y países como Chile, Guatemala, Venezuela, Colombia, Bolivia, Israel y Japón.
- c) Se usa para referirse al aumento generalizado de los precios, por lo que al subir los costos, el dinero alcanza para comprar menos productos y servicios.

4.- ¿Qué es el Tratado de Libre Comercio de América del Norte?

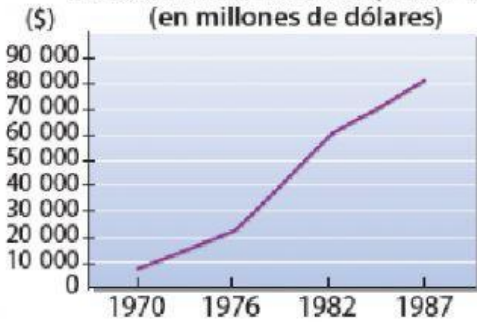
- a) Con éste acuerdo se pretendía que México sus exportaciones a dichos países y que pudiera adquirir artículos extranjeros a menor costo.
- b) Con la Unión Europea y países como Chile, Guatemala, Venezuela, Colombia, Bolivia, Israel y Japón.
- c) Se usa para referirse al aumento generalizado de los precios, por lo que al subir los costos, el dinero alcanza para comprar menos productos y servicios.

5.- La expresión que describe a la economía mexicana en el periodo 1970-1994 es:

- a) Industrialización exitosa.
- b) Crisis económicas fuertes.
- c) Aumento del comercio exterior.

Observa las gráficas y rodea la respuesta correcta.

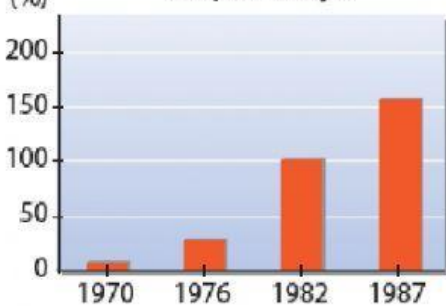
Deuda externa mexicana, 1970-1987



¿Cuál fue una de las consecuencias del deterioro de la economía mexicana?

- a) Disminuyó la cantidad de dinero que México debía a otros países.
- b) Otros países pidieron prestado a México.
- c) Aumentó la cantidad de dinero que México debía.

Inflación en México, 1970-1987
(en porcentaje)



¿Cómo afectó la crisis a la población en general?

- a) El precio de los productos aumentó casi al doble en 12 años.
- b) El precio de los productos disminuyó respecto de años anteriores.
- c) Aumentó el salario de los trabajadores.

Subtema 3: "Expansión urbana, desigualdad y protestas sociales del campo y la ciudad"

Instrucciones: lee el siguiente texto y después contesta la pregunta.



Desde la década de 1970, la sociedad mexicana es predominantemente urbana, es decir, la mayoría de la población vive en las **ciudades**, y ha sido en estas donde se han desarrollado las principales actividades económicas del país.

Las ciudades han crecido de manera no planeada, es decir, han tenido un aumento sin control en su extensión y en su número de habitantes. Esto ha provocado problemas para abastecer a sus habitantes sin dañar el ambiente.

Este crecimiento de las ciudades se relaciona con el empobrecimiento y el atraso del campo. Ante esta situación, muchos campesinos han migrado en busca de mejores condiciones de vida.

Los efectos de las crisis económicas agravaron un sentimiento de descontento y de demanda social entre ciertos grupos de la población.

El aumento de las desigualdades y el estado de pobreza de millones de mexicanos llevaron a muchos a manifestar su **inconformidad** e incluso a levantarse en armas contra el gobierno; fue el caso del Ejército Zapatista de Liberación Nacional (EZLN) en 1994.



1 Rodea una causa de la expansión urbana.

a) Migración de las ciudades al campo

b) Apertura de avenidas y vías rápidas

c) Disminución de la población

d) Migración del campo a las ciudades

Instrucciones: lee el siguiente texto y después responde la última pregunta.

Somos producto de 500 años de luchas: primero contra la esclavitud, en la guerra de Independencia contra España encabezada por los insurgentes, después por evitar ser absorbidos por el expansionismo norteamericano, luego por promulgar nuestra Constitución y expulsar al Imperio Francés de nuestro suelo, después la dictadura porfirista nos negó la aplicación justa de las Leyes de Reforma y el pueblo se rebeló formando sus propios líderes, surgieron Villa y Zapata, hombres pobres como nosotros a los que se nos ha negado la preparación más elemental para, así, poder utilizarnos como carne de cañón y saquear las riquezas de nuestra patria sin importarnos que estemos muriendo de hambre y de enfermedades incurables, sin importarnos que no tengamos nada, absolutamente nada, ni un techo digno, ni tierra, ni trabajo, ni salud, ni alimentación, ni educación, sin tener derecho a elegir libre y democráticamente a nuestras autoridades, sin independencia de los extranjeros, sin paz ni justicia para nosotros y nuestros hijos.

Declaración de la selva Lacandona.
Ejército Zapatista de Liberación Nacional (EZLN), enero de 1994.



¿Qué razones dieron los miembros del EZLN para iniciar su movimiento?

- | | | | |
|---|--|--|--|
| a) La corrupción de los gobernantes y los funcionarios públicos. | b) El aumento del narcotráfico y la venta de armas. | c) La pobreza en la que se encontraban millones de mexicanos. | d) El crecimiento desmedido de la población urbana. |
|---|--|--|--|