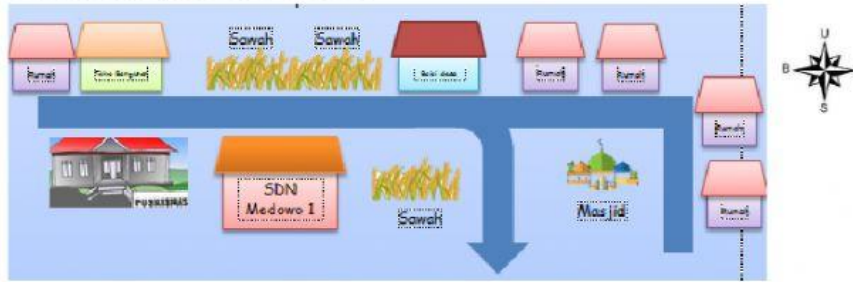


## PILIHAN GANDA

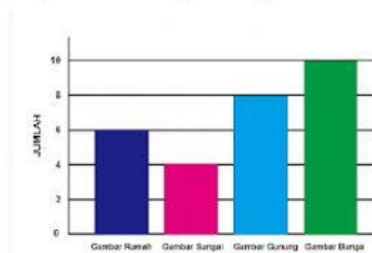
A. Pilihlah jawaban yang menurut kalian paling benar!

1. Perhatikan gambar berikut !



1. SDN Medowo 1 terletak di sebelah .....puskesmas
  - a. Utara
  - b. Barat
  - c. Timur
  - d. Selatan
2. Dona mengikuti upacara bendera pada hari Senin. Pada saat upacara ia berdiri menghadap ke arah matahari terbenam. Hal itu berarti Dona sedang menghadap ke arah....
  - a. Utara
  - b. Timur
  - c. Selatan
  - d. Barat
3. **Perhatikan diagram berikut untu menjawab soal nomor 3-4!**


Siswa kelas 3 mendapatkan tugas untuk membuat gambar. Bu guru memberikan pilihan kepada siswa gambar yang akan mereka buat sesuai dengan kesukaan masing-masing, diantaranya gambar rumah, sungai, gunung dan juga bunga. Bu guru mendata jumlah siswa yang akan menyukai tiap-tiap gambar kedalam diagram batang. Diagram batang tersebut sebagai berikut :



Gambar yang paling sedikit dibuat siswa kelas 3 SD adalah ....

- a. Gambar sungai

- b. Gambar bunga
  - c. Gambar gunung
  - d. Gambar rumah
4. Selisih gambar bunga dan sungai adalah ....
- a. 2
  - b. 6
  - c. 10
  - d. 12



Bahan yang digunakan dalam teknik lipat berdasarkan rancangan adalah ....

- a. Gunting
- b. Penggaris
- c. Lem kertas
- d. Kertas gambar

## ISIAN

B. Isilah titik-titik di bawah ini dengan jawaban yang tepat!

6. Sebuah gambar yang menunjukkan lokasi suatu tempat dinamakan dengan ....

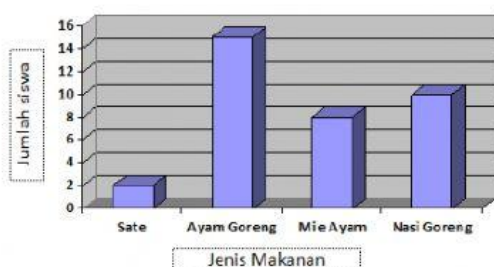


Kolam renang berada di sebelah ... balaidesa

**Untuk menjawab nomor 8 dan 9**

8. Diaram batang berikut menunjukkan makanan kesukaan siswa kelas 3 SDN

Medowo 1



Selisih siswa yang menyukai nasi goreng dan mie ayam adalah ....

9. Jumlah siswa dalam satu kelas adalah ....
10. Desi memiliki gunting, kertas lipat, lem, tali dan juga selotip. Desi akan membuat maket. Teknik apa saja yang digunakan untuk membuat maket adalah ....