



دولة الإمارات العربية المتحدة  
وزارة التربية والتعليم  
أكاديمية الفجيرة العلمية الإسلامية



الصف : الثامن /

الاسم : .....

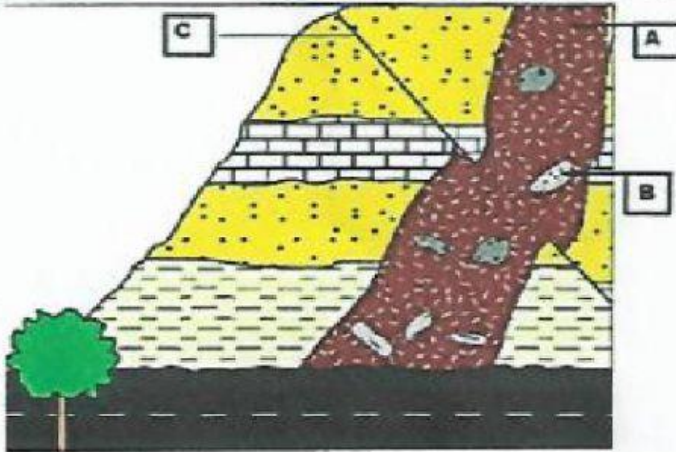


## استراتيجية قراءة الصور

الدرس : التاريخ بالعمر النسبي

استخدم الصور التالية للإجابة عما يلي :

استخدم الشكل المجاور للإجابة عن الأسئلة التالية :



اكتب أسماء التراكيب أو التكوينات  
الجيولوجية ( A , B , C )

..... A

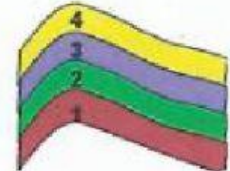
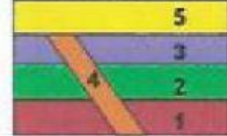
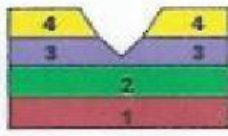
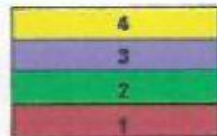
..... B

..... C

أيهما أحدث عمراً A أو C ؟

الأحدث : .....

حدد مبدأ العمر النسبي المستخدم أسفل كل شكل من الأشكال التالية :



.....

معلم العلوم / أ. كمال احمد