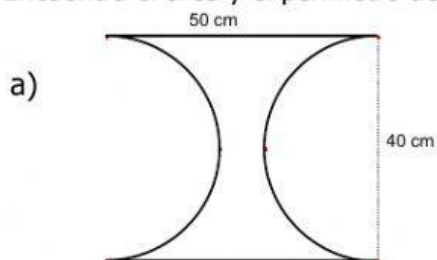


### CIRCUNFERENCIA Y CÍRCULO 3

#### LONGITUD DE LA CIRCUNFERENCIA Y ÁREA DEL CÍRCULO

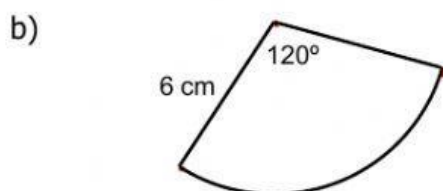
En todos los ejercicios tienes que redondear a dos cifras decimales y tomar como valor aproximado de  $\pi$  el número 3'14.

1. Encuentra el área y el perímetro de las siguientes figuras:



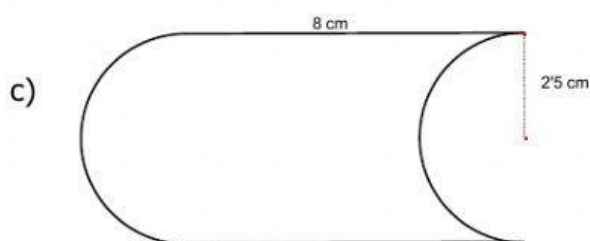
Perímetro =                      cm

Área =                      cm<sup>2</sup>



Perímetro =                      cm

Área =                      cm<sup>2</sup>



Perímetro =                      cm

Área =                      cm<sup>2</sup>

2. Javier está rodando un aro de 52 cm de diámetro. ¿Cuántos centímetros recorre el aro cuando da una vuelta completa?

3. Calcula el área y el perímetro de esta figura:

Perímetro =

cm

Área =

cm<sup>2</sup>

