

Guía de trabajo evaluada de Historia y Geografía
3° básicos

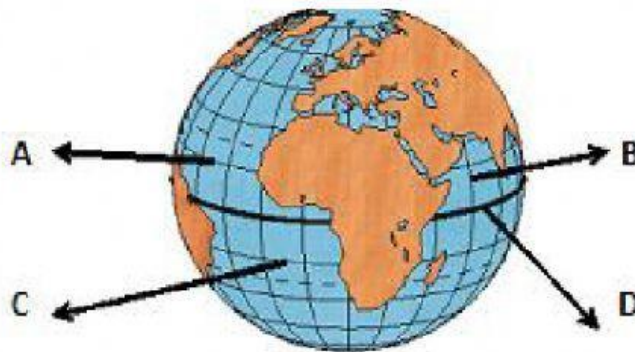
Nombre:

Puntaje ideal: 18 Puntaje total:

La siguiente guía de trabajo la debes desarrollar de forma virtual. En caso de tener inconvenientes y no puedas acceder, avísale a tu profesora.

- I) Lee cada pregunta y luego escribe tu respuesta en el cuadrado ubicado debajo de cada pregunta. (2 puntos cada una)
-

1. En la siguiente imagen, ¿qué letra identifica el círculo o línea del Ecuador?



- a) Letra A
- b) Letra B
- c) Letra C
- d) Letra D

Respuesta, es la letra :

2. En la imagen de nuestro planeta se encuentra marcadas líneas rojas, que corresponden a un hemisferio, ¿Qué nombre recibe dicho hemisferio?

- a) Hemisferio norte
- b) Hemisferio oriental
- c) Hemisferio sur
- d) Hemisferio occidental



Respuesta, es la letra :

3.- Las líneas imaginarias marcadas en el planisferio se llaman:

- a) Meridianos
- b) Paralelos
- c) Cuadrículas
- d) círculos

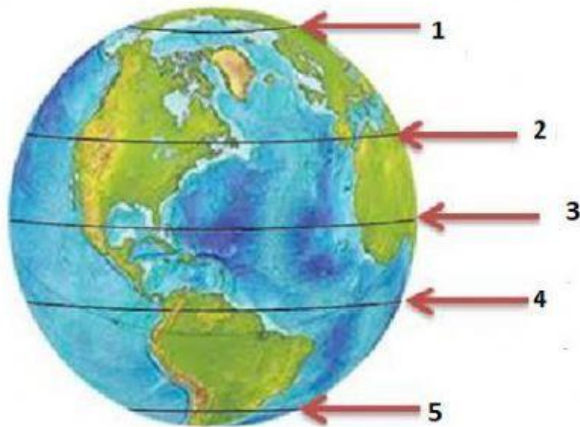
Respuesta, es la letra :



4.- ¿En qué número se ubica el círculo polar antártico?

- a) 1
- b) 3
- c) 4
- d) 5

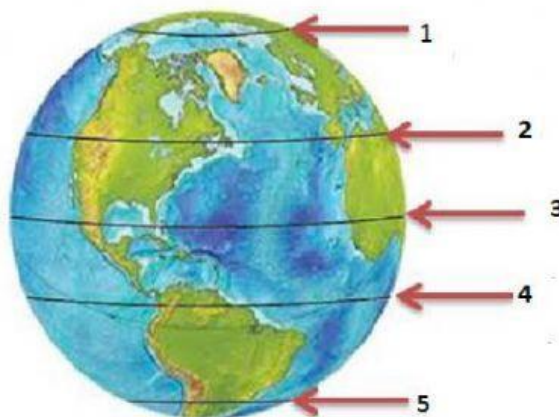
Respuesta, es la letra :



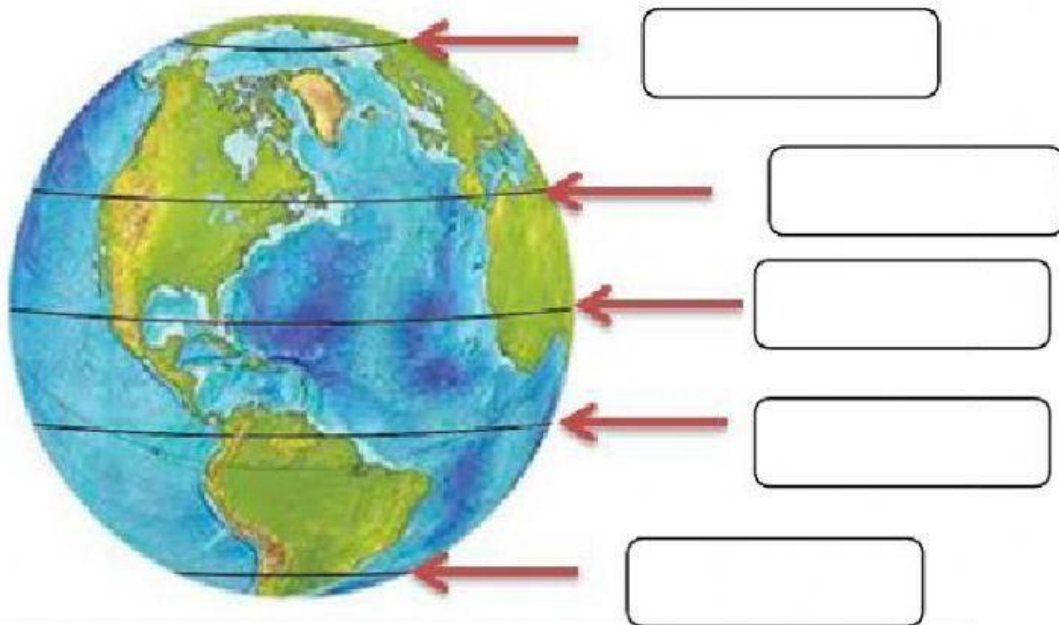
5.- ¿En qué número se ubica el Trópico de Cáncer?

- a) 1
- b) 2
- c) 4
- d) 5

Respuesta, es la letra :



- II) Coloca en cada recuadro, los nombre de estos paralelos principales que hemos aprendido. (5 puntos)



- III) Lee y responde cada pregunta.

1) ¿Cuál es el tema que más me ha gustado en la asignatura de Historia?

2) ¿Qué tema me ha resultado más difícil?

3) ¿De qué formas estudias en casa?