



EVALUACIÓN DE MATEMÁTICAS 4° BÁSICO 2021.

Docente:	María José Araya Ibacache
Unidad:	Unidad N°1: El medio ambiente.
Objetivo de aprendizaje:	<ul style="list-style-type: none">- Resolver adiciones, aplicando algoritmos abreviado y por descomposición.- Resolver problemas de planteamiento escrito en donde apliquen la adición.
Instrucciones generales del trabajo a desarrollar.	
<ul style="list-style-type: none">• Lee atentamente cada ejercicio y luego responde.• Enciende tu cámara.• Utiliza una hoja para hacer el desarrollo.• La evaluación inicia a las 11:15 y termina a las 12:10.	
Puntaje ideal 44pts puntaje obtenido	

I. Desarrolla las siguientes adiciones y sustracciones
utilizando la estrategia por descomposición. 12 puntos

1

UM	C	D	U
4	3	2	8
+	2	4	1

→

2

UM	C	D	U
5	0	2	9
+	2	8	1

→

3

UM	C	D	U
5	3	2	8
-	2	4	1

→

II. Desarrolla las siguientes adiciones y sustracciones. 12 puntos

A

	DM	UM	C	D	U
		5	3	2	8
+		2	4	1	9

B

	DM	UM	C	D	U
	3	6	5	4	9
+		6	1	3	9

C

	DM	UM	C	D	U
		3	9	9	3
+	3	7	5	9	4

D

	UM	C	D	U
	4	3	6	8
-		9	7	6

E

	UM	C	D	U
	8	6	4	5
-		8	8	0

F

	UM	C	D	U
	3	8	6	3
-	1	7	3	8

III. Resuelve los siguientes problemas. **20 puntos**

En el curso de Macarena y Joaquín organizaron una excursión de dos días. Ellos toman fotografías para realizar una exposición en el colegio.



a) ¿Cuántas fotografías tomó en total Joaquín? Resuelve aplicando el algoritmo.

Operación:

	C	D	U



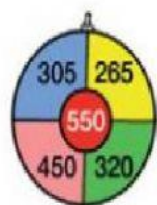
Datos:

Pregunta:

Planificación:

Respuesta: _____

Marcela, Salvador, Joaquín y Paloma juegan a lanzar dardos a un tablero como el que se muestra. Los siguientes son los resultados que obtuvo cada uno:



a. ¿Cuántos puntos consiguió en total cada uno?

Marcela:	+	+	=
Salvador:	+	+	=
Joaquín:	+	+	=
Paloma:	+	+	=

Marcela ► puntos.

Joaquín ► puntos.

Salvador ► puntos.

Paloma ► puntos.

b. ¿Quién obtuvo más puntos? ► _____

c. ¿Cuál es la mayor puntuación que se puede conseguir tirando tres dardos en zonas distintas?

Datos:																
Pregunta:	Planificación:															
Operación: :	+	+	=													

Respuesta: _____

Marcela:	+	+	=
Salvador:	+	+	=
Joaquín:	+	+	=
Paloma:	+	+	=

Marcela puntos.

Joaquín  puntos.

Salvador  puntos.

Paloma  puntos.

b. ¿Quién obtuvo más puntos? ► _____

c. ¿Cuál es la mayor puntuación que se puede conseguir tirando tres dardos en zonas distintas?

[illegible]

Respuesta: _____