

MECANIZACIONES

Nombre: _____

1-. Selecciona el número mayor.

a) 92 y 29

b) 31 y 30


c) 60 y 58

d) 48 y 84

e) 76 y 79

f) 55 y 45

2-. Suma de decenas, encuentra el número que falta.



SUMA DE DECENAS

$70 + \square = 100$	$60 + \square = 100$
$80 + \square = 100$	$50 + \square = 100$
$10 + \square = 100$	$30 + \square = 100$
$20 + \square = 100$	$90 + \square = 100$

3-. Resuelve las siguientes sumas.

		4	5	6				5	3	2				5	2	3	
		+	4	2	3			+	4	2	3			+	3	4	4
		5	2	3				4	5	6				5	3	2	
		+	3	3	2			+	5	2	2			+	2	3	4
		4	3	2				3	5	2				2	3	1	
		+	5	4	3			+	5	2	3			+	5	5	3
		3	5	2				4	3	2				2	3	4	
		+	2	4	4			+	2	5	3			+	6	2	5

4-. Resuelve las siguientes restas.

$$\begin{array}{r} \text{D} \quad \text{U} \\ 26 \\ - 16 \\ \hline \end{array}$$

$$\begin{array}{r} \text{D} \quad \text{U} \\ 85 \\ - 62 \\ \hline \end{array}$$

$$\begin{array}{r} \text{D} \quad \text{U} \\ 77 \\ - 30 \\ \hline \end{array}$$

$$\begin{array}{r} \text{D} \quad \text{U} \\ 58 \\ - 26 \\ \hline \end{array}$$

$$\begin{array}{r} \text{D} \quad \text{U} \\ 47 \\ - 13 \\ \hline \end{array}$$

$$\begin{array}{r} \text{D} \quad \text{U} \\ 21 \\ - 21 \\ \hline \end{array}$$

$$\begin{array}{r} \text{D} \quad \text{U} \\ 46 \\ - 12 \\ \hline \end{array}$$

$$\begin{array}{r} \text{D} \quad \text{U} \\ 35 \\ - 22 \\ \hline \end{array}$$

$$\begin{array}{r} \text{D} \quad \text{U} \\ 83 \\ - 42 \\ \hline \end{array}$$

5-. Marca las centenas de los siguientes números.

234

337

876

148

6-. Marca las decenas de los siguientes números.

105

395

47

55

7-. Marca las unidades de los siguientes números.

345

56

9

654

8-. Responde.

Una decena es igual a _____ unidades.

1

10

100

Una centena es igual a _____ unidades

1

10

100

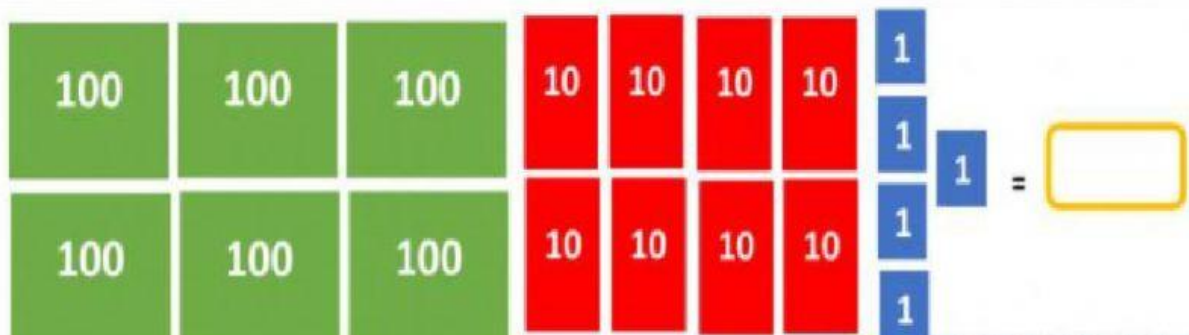
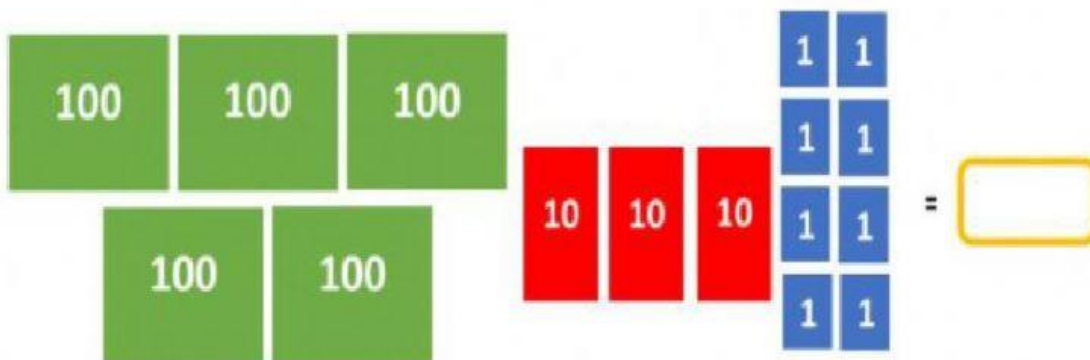
9-. Sumando centenas, decenas y unidades.

174

538

322

685



10-. Relaciona las operaciones con las que se obtenga el mismo resultado. Al final resuelve las operaciones para confirmar tus respuestas.

$10 + 5 =$

$15 + 5 =$

$9 + 9 =$

$30 + 10 =$

$7 + 3 =$

$28 + 2 =$

$40 + 20 =$

$20 - 2 =$

$45 - 5 =$

$30 - 10 =$

$15 - 5 =$

$20 - 5 =$

$90 - 30 =$

$40 - 10 =$