

## SABER DOMINGUISTA # 2

Nombre: \_\_\_\_\_

Curso: \_\_\_\_\_

### CRITERIOS.

Estimado estudiante. La siguiente prueba se basa en las competencias vistas en clase a partir de su trabajo personal realizado en las mismas. Para ello tenga en cuenta:

- Se evalúan las competencias de Razonamiento y Argumentación.
- Todo punto debe ser justificado mediante el procedimiento matemático para que el punto tenga validez.
- Debe ser desarrollado de manera organizada.
- Cualquier intento de copia es causal de la anulación de la prueba.
- Cada ejercicio equivale a dos puntos.

### Lee cuidadosamente y responde:

1. La entrada a un parque temático de la ciudad de Medellín tiene un valor de \$7.800. Si el lunes solo ingresaron 123 personas ¿Cuánto dinero recibió el parque?

	×	_____	
		_____	
+		_____	

Ubica en cada casilla los números

El parque recibió \_\_\_\_\_ pesos el lunes.

No olvides poner el punto que indica mil.

2. Un elefante adulto puede consumir hasta 135 kilogramos de comida en un solo día. ¿Cuánto habrá consumido al cabo de 47 días?













	×	_____	
		_____	
+		_____	

Ubica en cada casilla los números

Al cabo de \_\_\_\_\_ días el elefante habrá consumido \_\_\_\_\_ kilogramos de comida.

No olvides poner el punto que indica mil.


3. Matías compró en la feria 12 naranjas para sus 3 cerdos y quiere darles la misma cantidad de naranjas a cada uno. Arrastra las naranjas e indica cuantas naranjas debe tener cada cerdo

1	2	3	4	5	6	7
						
8	9	10	11	12	Arrastra las naranjas en orden	
						

Cada cerdo tendrá \_\_\_\_\_ naranjas.

4. Escribe la repartición que se ha representado



Hay \_\_\_\_\_ peces en \_\_\_\_\_ peceras. En cada pecera hay \_\_\_\_\_ peces.

De forma matemática sería:  $\div$  = porque:  $\times$  =

5. Escribe SI o NO si corresponden a rectas perpendiculares

