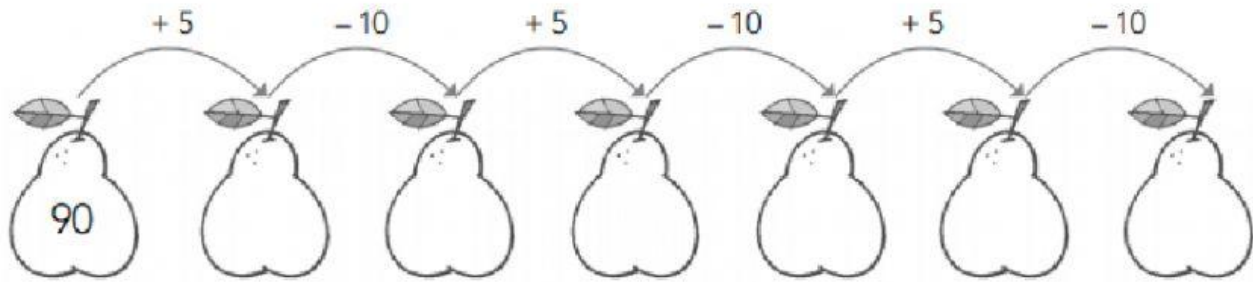
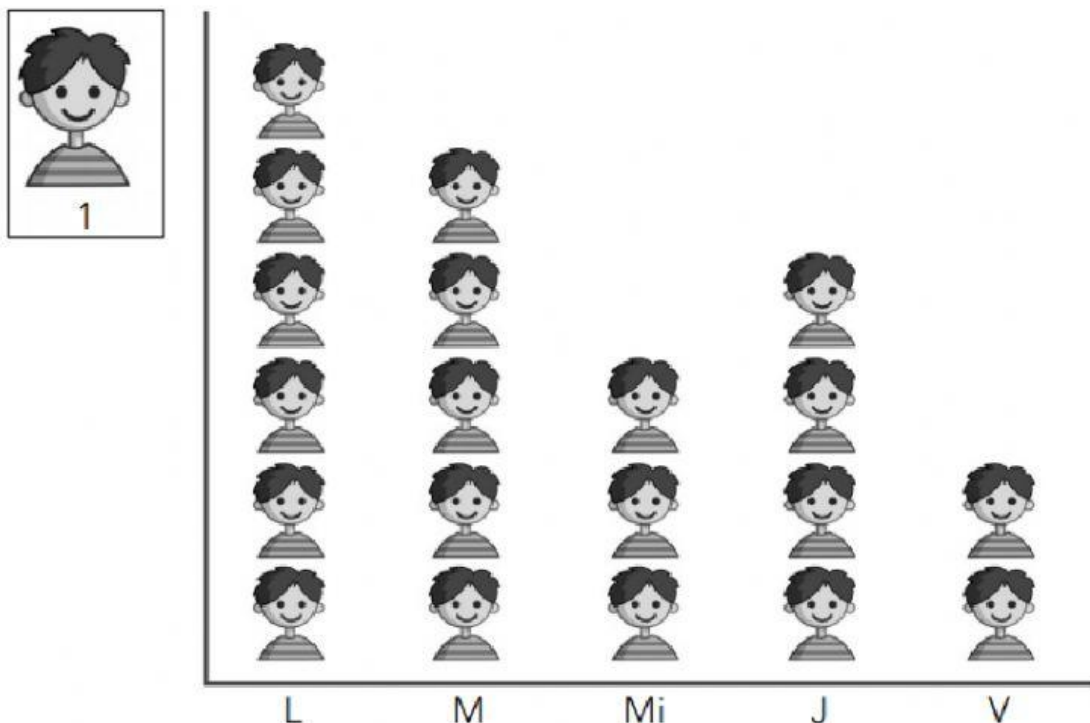


## REPASO MATEMÁTICAS UNIDADES 11 Y 12

Completa la serie.



Este pictograma muestra los estudiantes que han faltado a clase esta semana.



– ¿Cuántos estudiantes han faltado el miércoles?

– ¿Y el jueves?

– ¿Cuántos estudiantes han faltado el lunes más que el viernes?

Completa con el mes anterior y el posterior.

	← diciembre →	
	← enero →	

Ordena.

Jueves	1	
Sábado	2	
Viernes	3	
Lunes	4	
Domingo	5	
Miércoles	6	
Martes	7	

Escribe seguro, posible o imposible.

Si cogemos una moneda sin mirar...



- Es  sacar una de 1 euro.
- Es  sacar una de 2 euro.
- Es  sacar una moneda.

Escribe la hora que marca cada reloj.



Son las

---

---

---



Son las

---

---

---



Son las

---

---

---



Son las

---

---

---



Son las

---

---

---



Son las

---

---

---

Arrastra y coloca en su lugar

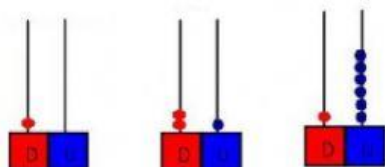
PAR

IMPAR



23 35 56 16 74 32 11 46 85 99

Coloca debajo de su ábaco.

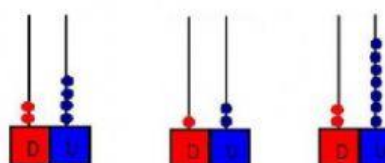


1 0

1 6

2 4

2 1



2 7

1 2