

NOMBRE:	FICHA 4 AUDICIÓN	
CLASE:		

1 Escucha estos acordes y dí si son Mayores, menores, disminuidos o Aumentados:

1	2	3
M m d A	M m d A	M m d A
4	5	6
M m d A	M m d A	M m d A

2 Escucha estos audios y escribe (I), (IV) o (V) según corresponda:

1	2	3
<div style="border: 1px solid black; width: 100px; height: 20px; display: flex; justify-content: space-between;"><div></div><div></div><div></div><div></div></div>	<div style="border: 1px solid black; width: 100px; height: 20px; display: flex; justify-content: space-between;"><div></div><div></div><div></div><div></div></div>	<div style="border: 1px solid black; width: 100px; height: 20px; display: flex; justify-content: space-between;"><div></div><div></div><div></div><div></div></div>


3 Escucha estas escalas menores y dí de qué tipo es cada una:

1	2	3
<div style="border: 1px solid black; width: 100px; height: 20px;"></div>	<div style="border: 1px solid black; width: 100px; height: 20px;"></div>	<div style="border: 1px solid black; width: 100px; height: 20px;"></div>



4 Escucha los siguientes audios y arrastra los ritmos a su lugar correcto:

1


2/4

<div style="border: 1px solid black; padding: 5px;"></div>	<div style="border: 1px solid black; padding: 5px;"></div>	<div style="border: 1px solid black; padding: 5px;"></div>	<div style="border: 1px solid black; padding: 5px;"></div>
---	---	--	---


2



3



4



5 Escucha esta melodía y complétala. ¿En qué tono está?

¿Qué tipo de escala utiliza?

