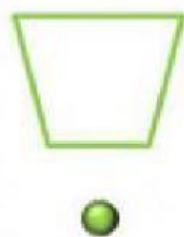



 Une con flechas cada línea dibujada con su nombre.





Línea poligonal cerrada	Línea curva abierta	Línea recta	Línea poligonal abierta	Línea curva cerrada
----------------------------	---------------------	-------------	----------------------------	------------------------

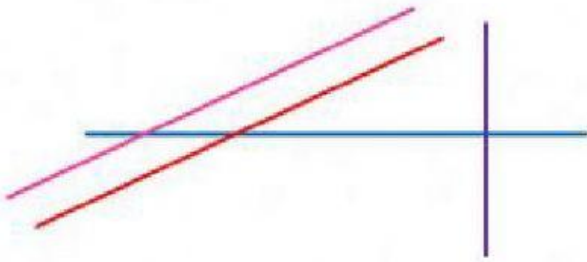
 Escribe, con números, cuántos segmentos tiene cada figura.



 Escribe de qué tipo es cada ángulo.



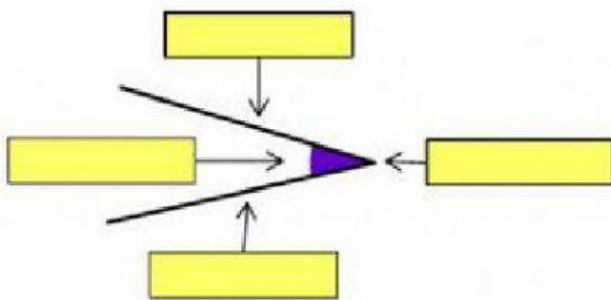
■ Observa las rectas y elige de qué tipo son según su posición.



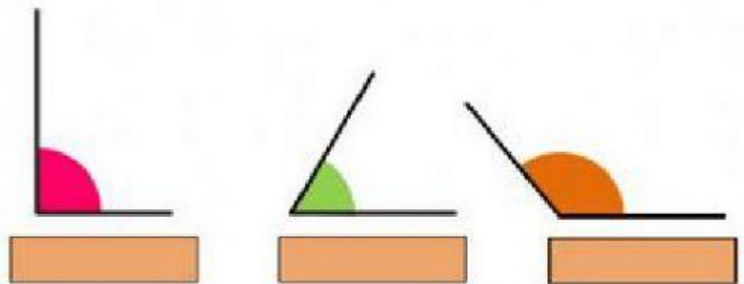
- La línea roja y la azul:
- La línea morada y la azul:
- La línea roja y la rosa:
- La línea roja y la morada:

■ Arrastra cada parte a su lugar correspondiente.

Partes de un ángulo



Tipos de ángulos



Agudo	Obtuso	Vértice	Amplitud	Lado	Recto	Lado
-------	--------	---------	----------	------	-------	------